

第三章西歐與北歐 考古題

1-3-1 西歐

一、單一選擇題

難易度：中

- 1.()十八世紀末以來，工業革命逐漸向外傳布，影響遍及全世界。當時最早是以附圖何處為中心向外傳播？〔100.第一次基測〕 (A)甲 (B)乙 (C)丙 (D)丁。



答：A

解析：工業革命起源地在英國，發生於1769年。

難易度：中

- 2.()「鹿特丹因位於某條國際大河的出口，銜接北大西洋航線，轉口貿易發達，不僅是該國的最大商港，也是遠洋貨物進出歐洲的大門，有『歐洲的窗口』之稱。」上文中提到的國際大河應是下列何者？〔99.第二次基測〕 (A)多瑙河 (B)萊茵河 (C)密士失必河 (D)聖羅倫斯河。

答：B

解析：萊茵河向西注入北海，連接北大西洋航線，是歐洲最重要的水運線。

難易度：中

- 3.()附表是平平針對英國和日本二島國的比較，表中哪一項目的內容完全正確？〔101.基測〕 (A)海陸位置 (B)氣候類型 (C)國家體制 (D)區域結盟。

項目 \ 國家	英 國	日 本
海陸位置	大西洋東側	太平洋西側
氣候類型	溫帶海洋性	溫帶海洋性
國家體制	共和國	君主國
區域結盟	為歐洲聯盟會員國	為東南亞國協會員國

答：A

解析：(B)氣候類型：日本屬溫帶季風氣候(C)國家體制：英國與日本同為君主立憲體制國家(D)區域結盟：日本位於東北亞，故非東南亞國協會員國。

難易度：難

- 4.()附圖中的網格區域，代表歐洲大陸人口較為密集且經濟高度發展的核心地區，其分布與下列何者的關係最密切？〔103.特招〕 (A)豐富的石油蘊藏量 (B)便利的河流航運線 (C)地中海型農業發達 (D)工業革命的發源地。

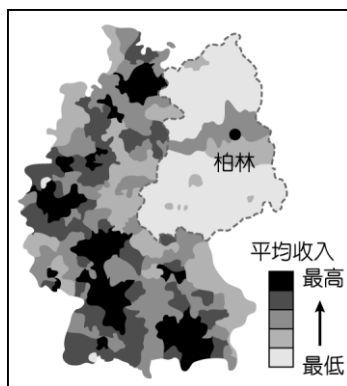


答：B

解析：圖中網格地區在西歐的德國及荷蘭，還包含阿爾卑斯山區，因此應為歐洲最具航運價值的萊茵河。

難易度：難

- 5.()附圖為2003年某國納稅者平均收入高低的分布，其中，低收入者明顯集中在虛線範圍內，這種現象主要是因為該區受下列何者的影響？〔100.北北基〕 (A)地形崎嶇而交通不便 (B)終年低溫且潮溼多雨 (C)曾長期實施計畫經濟 (D)殖民地式的經濟型態。



答：C


解析：柏林為德國首都，曾經因為德國分裂為東德與西德，而分為兩區，虛線範圍內屬共產國家，經濟上採計畫經濟，國民所得與生活水準較低。

1-3-2 北歐

一、單一選擇題

難易度：易

- 1.() 附圖為某種冰河地形形成的過程，其中甲應為下列何者？〔103.特招〕 (A)冰河堆積 (B)冰河侵蝕 (C)海水侵入 (D)海面下降。



答：C

解析：U型谷是冰河侵蝕而成，U型谷在冰河消退後因海面上升，使海水入侵形成峽灣。

難易度：中

- 2.() 「……芬蘭在這種限制下，要架設多少電線桿、拉多少電話線，才能構成完整的通訊網？解決之道就是發展無線通訊網路（行動電話），只需成本低廉的『點狀』基地臺，不必高成本的『線狀』電話線。」根據芬蘭的地理條件，上文所提到的「限制」最有可能是指下列何者？〔102.試辦會考〕 (A)土壤貧瘠、地質脆弱 (B)山勢陡峭、河短流急 (C)湖泊眾多、地廣人稀 (D)峽灣發達、海岸曲折。

答：C

解析：芬蘭的自然環境為地形發達，多冰蝕湖，因此造成人口稀少，為節省成本，無線通訊勝過有線通訊。

難易度：中

- 3.() 「在冰蝕地形發達及氣候冷溼的條件下，當地水資源豐富且針葉林廣布，成為其發展木材加工業的重要基礎。」前文所述最有可能是下列哪一個國家？〔97.第二次基測〕 (A)古巴 (B)芬蘭 (C)義大利 (D)墨西哥。

答：B

難易度：中

- 4.() 「這條線對我而言，已經不是遙不可及的抽象概念，而是一條真真切切踩在我腳底下的疆界……，好像越過了這一條線後，連太陽也可以放肆地占有二十四個小時，不留給黑夜任何一秒鐘。」根據上文的描述來推測，「這條線」最可能是下列何者？〔99.第一次基測〕 (A)赤道 (B)北極圈 (C)南回歸線 (D)本初子午線。

答：B

解析：夏季北極圈內會出現「永晝」現象。永晝、永夜的時間長短視緯度而定，在極圈（緯度 66.5）附近，僅有一天。

難易度：中

- 5.() 某國因位處大西洋的火山地震帶，暖氣跟電力都可以仰賴地底下不斷冒出的天然地熱，此外，當地冰河的消融也使得原本就發達的水力發電更加充足，是一個幾乎可以不依賴石油的國家。上述所指的國家最可能是下列何者？〔100.第一次基測〕 (A)日本 (B)冰島 (C)芬蘭 (D)紐西蘭。

答：B

解析：冰島位於大西洋中洋脊，為一個冰雪覆蓋的火山島嶼，有「冰火島」之稱，擁有豐富的地熱及水力資源。

難易度：中

- 6.() 「該國火山活動頻繁，冰河地形發達，漁產為其最大宗的出口貨品；除了海洋漁業外，居民也充分利用地熱和溫泉等資源，從事養殖漁業。」上文所指的國家最可能是下列何者？〔100.北北基〕 (A)日本 (B)挪威 (C)冰島 (D)義大利。

答：C

解析：冰島位於大西洋中洋脊，火山、溫泉多，因為緯度高，冰河地形發達。

難易度：中

- 7.() 「在湖畔的小木屋內享受高溫蒸氣，以樹枝輕輕拍打並按摩身體，然後跑出屋外躍入湖中，利用湖水冷冽的特性收縮肌膚。」請問：這種沐浴方式所需要的自然條件，在下列哪一個國家最常見？〔93.第二次基測〕 (A)法國 (B)芬蘭 (C)希臘 (D)義大利。

答：B

解析：芬蘭因為冰蝕湖眾多，加上針葉林的分布，因此形成芬蘭浴。

難易度：難

- 8.()「研究指出，有些人在天色較陰暗的月份裡，因為所受日照時數大幅減少的緣故，會有精神不濟、情緒低落、活動力降低的『冬季憂鬱症』徵狀。」依照文中敘述，下列哪一城市的居民出現上述病症的比例可能最高？〔100.第二次基測〕 (A)印尼雅加達 (B)澳洲坎培拉 (C)西班牙馬德里 (D)芬蘭赫爾辛基。

答：D

解析：緯度愈高，冬季日照時間愈短，至極圈以內甚至出現「永夜」，選項中以北歐芬蘭赫爾辛基的緯度最高。

第三章西歐與北歐 會考特色題

難易度：中

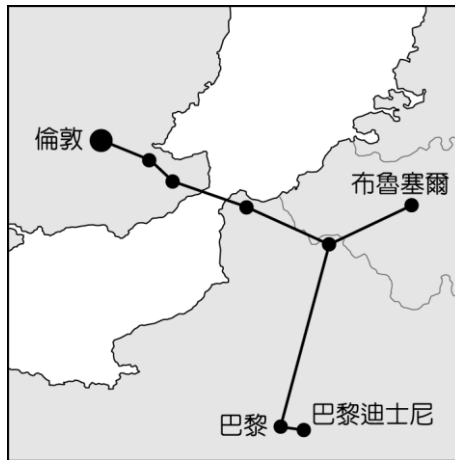
- 1.()奧斯陸大學的研究團隊在挪威峽灣外海發現史上最可怕的恐龍遺骸——「掠食者X」，身長達15公尺，攻擊力為暴龍的11倍。請問：若依其遺骸位置判斷，則下列哪一個標題最為適合？ (A)大西洋的海底霸主 (B)太平洋的龐然大物 (C)印度洋的終極殺手 (D)地中海的奇特生物。

答：A

解析：挪威的峽灣濱臨大西洋，因此就其遺骸判斷，主要的活動區域位於大西洋。

難易度：中

- 2.()附圖為歐洲境內某條重要的交通路線示意圖，請依據圖中資料判斷，這條交通路線必須興建隧道以穿越哪一個海域？ (A)英吉利海峽 (B)直布羅陀海峽 (C)北海 (D)大西洋。

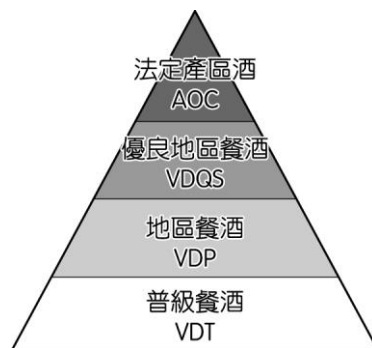


答：A

解析：圖中路線主要連接英、法兩國，因此穿越的海域為英吉利海峽。

難易度：中

- 3.()法國的葡萄酒已成為當地飲食文化不可或缺的元素，依照其品質可分為四個等級，如附圖所示。請問：法國盛產葡萄來製成酒，是因當地為何種氣候類型？ (A)高地氣候 (B)寒帶氣候 (C)溫帶大陸性氣候 (D)溫帶地中海型氣候。



答：D

解析：葡萄為地中海型農業的主要作物，多分布於溫帶地中海型氣候區。

難易度：中

- 4.()歐洲大陸的水運交通相當發達，是經濟發展的重要命脈。附圖為西歐最重要的河道流域圖，該河道構成了下列哪一組運輸路線？ (A)羅亞爾河—大西洋 (B)萊茵河—北海 (C)多瑙河—黑海 (D)波河—地中海。

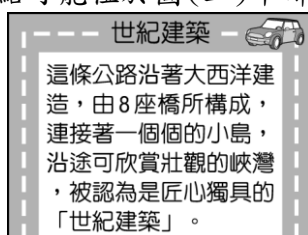


答：B

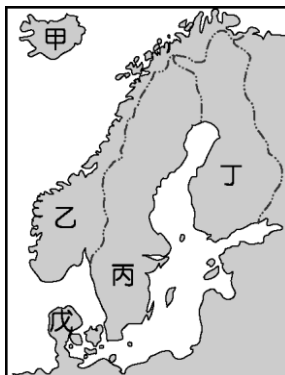
解析：西歐最重要的河川為萊因河，由荷蘭鹿特丹匯入北海。

難易度：中

5.()圖(一)為旅行社文宣中的景點介紹，此景點可能位於圖(二)中哪一個國家？ (A)乙 (B)丙 (C)丁 (D)戊。



▲圖(一)



▲圖(二)

答：A

解析：乙為挪威。

難易度：中

6.()附圖為著名的航海卡通圖片，敘述來自挪威的維京人海盜故事。請問：挪威當地有利於出海活動的最主要因素為何？ (A)谷灣地形分布 (B)河港腹地廣大 (C)沿海風平浪靜 (D)冰河峽灣海岸。



答：D

解析：挪威沿海為峽灣地形，由於港闊水深，因此有利海上活動的進行。

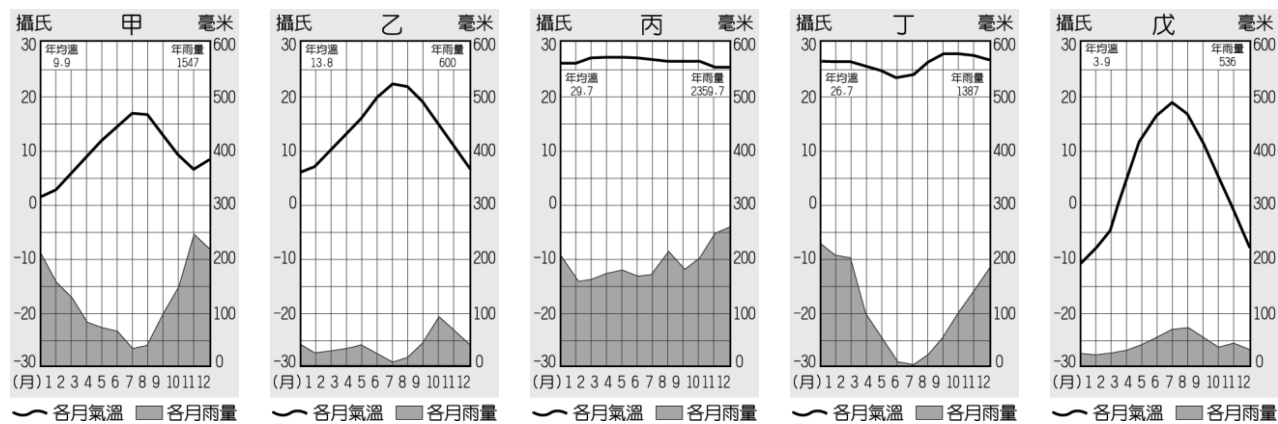
第三章西歐與北歐

1-3-1 西歐

一、單一選擇題

難易度：難

1.()曉明在暑假前往英國及義大利遊學，體驗不同的歐洲風情。請問：有關英國和義大利的氣候類型依序分別為何者？ (A)丙、乙 (B)丙、丁 (C)戊、甲 (D)甲、乙。



答：D

解析：英國為溫帶海洋性氣候，終年有雨且冬季多雨；義大利為溫帶地中海型氣候，夏乾冬雨且雨量不多。

難易度：易

- 2.()英國為工業革命的先驅，初期是從紡織工業的改良開始，但由於英國當地氣候不利於棉花的種植，因此由美國南部的殖民地進口棉花來加工製造。請問：當時棉花的運送會經過哪一海域？ (A)太平洋 (B)大西洋 (C)印度洋 (D)地中海。

答：B

解析：歐洲和美洲之間相隔大西洋。

難易度：易

- 3.()工業革命開啟了人類發展的另一章，影響至今仍然相當明顯。請問：工業革命起源於下列哪一個地區？ (A)北美 (B)東亞 (C)西歐 (D)南歐。

答：C

解析：工業革命發源自西歐的英國。

難易度：易

- 4.()歐洲境內各地區的主體地形不同，影響當地的區域發展。請問：歐洲境內以哪一個地區的平原面積最為廣大，有利於聚落分布？ (A)西歐 (B)東歐 (C)北歐 (D)南歐。

答：A

解析：西歐除東南部的阿爾卑斯山外，以平原地形為主。

難易度：易

- 5.()歐洲西部的國家在大航海時期占領許多殖民地，奠定了各國貿易的基礎。請根據位置判斷，當時以哪一個海洋對外航行為主？ (A)太平洋 (B)大西洋 (C)印度洋 (D)北極海。

答：B

解析：西歐濱臨大西洋，因此可由大西洋沿岸出發，航行至世界各地。

難易度：易

- 6.()英國的豆豆先生獲得前往法國旅行的機會，他若由倫敦搭乘列車前往巴黎，必須經過下列何處？ (A)阿爾卑斯山 (B)英吉利海峽 (C)愛爾蘭島 (D)伊比利半島。

答：B

解析：英國為島國，因此必須經過海域後才可到達歐洲大陸。

難易度：易

- 7.()英國在發展工業活動的條件相當優越，該國在哪一個地區發現石油礦藏，有利於經濟活動的發展？ (A)本寧山 (B)北海 (C)英吉利海峽 (D)大西洋。

答：B

解析：英國石油礦藏主要分布於北海海域。

難易度：易

- 8.()國內近年來吹起了一股時尚風潮，許多精品在臺灣的銷售情況甚佳。請問：國人喜愛的路易·威登 (LV) 是哪一國的知名品牌？ (A)義大利 (B)法國 (C)美國 (D)英國。

答：B

解析：法國的時尚產業相當發達，知名品牌如香奈兒、路易·威登等皆出自該國。

難易度：易

- 9.()法國的「無煙囪」產業帶來了數百億歐元的收入，成為該國重要的經濟活動。請問：「無煙囪」產業指的是下列何種產業活動？ (A)重工業 (B)農業 (C)商業 (D)旅遊業。

答：D

解析：無煙囪產業指的是旅遊業。

難易度：易

10.()法國巴黎的左岸咖啡為許多文人墨客的聚集地，該地區位於哪一條河川的左岸？ (A)萊茵河 (B)多瑙河 (C)塞納河 (D)泰晤士河。

答：C

解析：巴黎境內有塞納河流經。

難易度：易

11.()歐洲哪一個國家由於位於歐洲的中部，因此自然環境上的過渡性相當明顯？ (A)德國 (B)法國 (C)義大利 (D)英國。

答：A

解析：德國位於歐洲的中部。

難易度：易

12.()德國的河運相當發達，由運河連結的水運串聯至各主要工業區。請問：德國的運河方向多為下列何者？ (A)東西向 (B)南北向 (C)向心狀 (D)放射狀。

答：A

解析：德國的河川多為南北向，因此運河以東西向連結各河川。

難易度：易

13.()德國境內的河川水運相當發達，其主要河川多直接流入哪一個海洋，因此對外貿易興盛？ (A)地中海 (B)北海 (C)黑海 (D)大西洋。

答：B

解析：德國河川多由南向北流，匯入北海。

難易度：易

14.()歐洲的哪一個國家積極在海上填海造陸，擴大活動範圍，並有低地國的稱號？ (A)法國 (B)瑞士 (C)荷蘭 (D)英國。

答：C

解析：荷蘭國名為 Netherlands，為低地國之意。

難易度：易

15.()下列哪一條河川的出海口位於荷蘭鹿特丹，有利於轉口貿易的發展？ (A)多瑙河 (B)萊茵河 (C)波河 (D)塞納河。

答：B

解析：萊茵河由荷蘭鹿特丹入海。

難易度：易

16.()萊茵河流經西歐主要工業國家的工礦產區，因此航運價值相當重要。請問：該河川最後由哪一個國家流入海洋？ (A)法國 (B)德國 (C)荷蘭 (D)比利時。

答：C

解析：萊茵河由荷蘭鹿特丹入海。

難易度：易

17.()小亭在今年春天時前往歐洲庫肯霍夫花園欣賞世界著名的鬱金香花季，舉辦花季的「鬱金香王國」為下列何者？ (A)德國 (B)法國 (C)英國 (D)荷蘭。

答：D

解析：荷蘭種植鬱金香行銷世界各地，每年春季的花季吸引全球的遊客前來欣賞。

難易度：易

18.()我國經濟部部長欲前往歐盟總部洽談經濟合作事項，他應該前往下列哪一個都市？ (A)鹿特丹 (B)布魯塞爾 (C)巴黎 (D)倫敦。

答：B

解析：歐盟總部設立於比利時首都布魯塞爾。

難易度：易

19.()比利時為西歐三小國之一，其首都布魯塞爾為哪一個重要國際組織的總部所在？ (A)亞太經濟合作會議 (B)聯合國 (C)大英國協 (D)歐洲聯盟。

答：D

難易度：易

20.()王總裁欲將個人資產交由歐洲的銀行加以管理，下列哪一個國家的金融業向以制度健全、信譽卓著聞名，因此最為適合？ (A)盧森堡 (B)冰島 (C)英國 (D)瑞士。

答：D

解析：瑞士的金融業以制度健全、信譽卓著聞名，而盧森堡金融業則以低稅率吸引各地資金。

難易度：易

21.()奧地利多次舉辦「滑雪障礙世界盃」賽事，利用當地的地形環境來進行，增加比賽的難度。前往奧地利參賽的滑雪選手必須克服哪一地形的障礙？ (A)平原 (B)高原 (C)盆地 (D)山地。

答：D

解析：奧地利境內的山地地形相當廣大。

難易度：易

22.()歐洲境內哪一個國家音樂氣息濃厚，為許多音樂家的出生地，如莫札特、舒伯特等？ (A)捷克 (B)波蘭 (C)奧地利 (D)法國。

答：C

解析：奧地利為著名的音樂重心，首都維也納被稱為音樂之都。

難易度：易

23.()附圖為 2013 年的新年音樂盛會宣傳海報，觀眾可同步看到歐洲哪一城市的知名交響樂團的演奏？ (A)巴黎 (B)布拉格 (C)倫敦 (D)維也納。



答：D

解析：奧地利為著名的音樂重心，首都維也納被稱為音樂之都。

難易度：易

24.()地理條件優越有利於區域發展，歐洲各地區中，哪一個在地形、氣候、海洋和港灣四方面皆最具優越性？ (A)東歐 (B)西歐 (C)南歐 (D)北歐。

答：B

難易度：易

25.()「第二次世界大戰時，該國藉由海域的屏障使德軍戰車無法到達，成為當時唯一未淪陷的國家。」請根據上述判斷，該國家應該為下列何者？ (A)荷蘭 (B)法國 (C)英國 (D)比利時。

答：C

解析：英國與歐洲大陸間以英吉利海峽相望，在第二次世界大戰時，德軍僅能以飛機空襲。

難易度：易

26.()歐洲之星列車的通行象徵一個新世紀的來臨，尤其對於哪一個國家而言，可說是融入歐洲大陸的重要里程碑？ (A)法國 (B)英國 (C)愛爾蘭 (D)冰島。

答：B

解析：英國位於歐洲外海，可藉由歐洲之星往來歐洲大陸。

難易度：易

27.()某海底隧道在 1994 年通車後，長達五十公里的隧道正式克服了英吉利海峽的天險，從此哪兩國可以藉由該運輸路線直接交流，使關係更加密切？ (A)英國—德國 (B)英國—俄羅斯 (C)英國—法國 (D)英國—義大利。

答：C

解析：英法海底隧道直接聯絡英、法兩國。

難易度：易

28.()英國為工業革命的發源地，當時是起源於哪一種礦藏資源的運用，而開啟了人類發展的重要里程碑？ (A)鐵礦 (B)石油 (C)金礦 (D)煤礦。

答：D

解析：英國利用煤礦改良蒸汽機的運作，開啟了工業革命。

難易度：易

29.()英國早期以煤礦發展工業，成為經濟強國，但進入 20 世紀後，由於何種能源取代煤礦的地位，使得經濟發展遇到瓶頸？ (A)石油 (B)水力 (C)天然氣 (D)太陽能。

答：A

解析：石油在 20 世紀取代煤礦成為新興能源。

難易度：易

30.()葡萄酒本是西方飲食文化的一環，許多國家均有生產，但是哪一國家由於重視品質、品牌，而成為世界公認最佳的葡萄酒出產國？ (A)英國 (B)法國 (C)瑞士 (D)荷蘭。

答：B

解析：法國南端面臨地中海，其氣候特色有利於種植葡萄。

難易度：易

31.()「時尚與工藝的結合在該國充分呈現，引領世界的設計與高科技的航空工業、高速鐵路，造就了強勁的經濟實力。」請問：上述中指的為下列哪一個國家？ (A)日本 (B)中國 (C)法國 (D)德國。

答：C

解析：法國的時尚產業與高科技工業聞名於世。

難易度：易

32.()根據相關單位的統計，法國為世界觀光客最多的國家，帶來可觀的外匯及國際知名度。請問：該國主要的觀光景點不包括下列何者？ (A)凱旋門 (B)羅浮宮 (C)比薩斜塔 (D)凡爾賽宮。

答：C

解析：比薩斜塔位於義大利。

難易度：易

33.()知名小說《達文西密碼》將故事場景拉至羅浮宮，緊湊懸疑的情節吸引了許多書迷前往羅浮宮朝聖。請問：該博物館位於哪一國？ (A)英國 (B)美國 (C)埃及 (D)法國。

答：D

解析：羅浮宮位於法國巴黎，為世界著名的博物館。

難易度：易

34.()法國的高科技產業相當發達，其洛林區發展工業的有利條件為何？ (A)煤礦 (B)石油 (C)水力 (D)鐵礦。

答：D

解析：位於德、法邊界上的洛林區盛產鐵礦，有利於工業發展。

難易度：易

35.()德國為歐洲重要的工業國家之一，工業產品以創新及高品質著稱，行銷世界各地。請問：該國境內有何種礦藏資源，因此有利於工業發展？ (A)鐵礦 (B)煤礦 (C)石油 (D)銅礦。

答：B

解析：德國魯爾區富藏煤礦，因此成為主要的工業區。

難易度：易

36.()歐洲各國的工業發展均相當進步，目前歐洲國家內，哪一個國家的經濟產值最高？ (A)法國 (B)德國 (C)義大利 (D)英國。

答：B

解析：德國經濟產值約占歐盟的 1/5，為產值最高的國家。

難易度：易

37.()「該國的工業活動和軍事發展關係甚大，機械、通訊、大眾運輸等均相當發達。而生產的賓士汽車更受到世界各國的喜愛。」請問：上述中的國家應該為何？ (A)英國 (B)法國 (C)德國 (D)義大利。

答：C

解析：德國的汽車工業興盛，電子和資訊產業亦相當發達。

難易度：易

38.()德國的工業活動和魯爾區的煤礦關係甚大，如德國和哪一個鄰國交換鐵礦後，更有利於該國工業的發展？ (A)英國 (B)法國 (C)波蘭 (D)義大利。

答：B

解析：德國以煤礦和西側鄰國的法國洛林區交換鐵礦，有利於兩國的工業發展。

難易度：易

39.()歐洲的產業發展和河川關係相當密切，重要的工業都市多位於河道兩側。請問：德國以哪一條河川的航運價值最高？ (A)多瑙河 (B)萊茵河 (C)波河 (D)塞納河。

答：B

解析：萊茵河流經重要的工礦區，航運最為發達。

難易度：易

40.()荷蘭人在海面上積極擴展土地面積，因此有「上帝造海，荷蘭人造陸」之稱。請問：該國主要在哪一個海域中填海造陸？ (A)北海 (B)大西洋 (C)波羅的海 (D)地中海。

答：A

解析：荷蘭北邊為北海，因此在該海域填海造陸。

難易度：易

41.()荷蘭在航海時期曾於下列何處建立起廣大的殖民地，因此國際貿易發達，形成許多跨國企業？ (A)西非 (B)東北亞 (C)中美洲 (D)東南亞。

答：D

解析：荷蘭在東南亞有許多殖民地，如印尼，因此國際間的貿易往來歷史悠久。

難易度：易

42.()飛利浦為歐洲著名的家電廠商，出產各式小家電行銷全球。該公司為哪一個國家的跨國企業？ (A)德國 (B)法國 (C)英國 (D)荷蘭。

答：D

難易度：易

43.()瑞士因為地形崎嶇、交通不便，因此發展何種工業產品，成為重要的經濟來源？ (A)飛機 (B)汽車 (C)鐘錶 (D)電子。

答：C

解析：瑞士的鐘錶全球聞名。

難易度：易

44.()奧地利山地廣布，景色秀麗，因此吸引無數觀光客前往旅遊。請問：橫亘該國的主要山脈為下列何者？ (A)庇里牛斯山 (B)基阿連山 (C)本寧山 (D)阿爾卑斯山。

答：D

解析：奧地利位於阿爾卑斯山的東側。

難易度：易

45.()瑞士被稱為「滑雪天堂」，附圖為瑞士境內的滑雪實景。請問：該國的滑雪場多設於哪一座山脈中？ (A)庇里牛斯 (B)喜馬拉雅山 (C)本寧山 (D)阿爾卑斯山。



答：D

解析：瑞士位於阿爾卑斯山區。

難易度：易

46.()豆豆先生主演的電影《凸搥特派員》中，敵方特務潛伏在白金漢宮。請問：此時他應該前往下列何處來破壞他們的陰謀？ (A)曼徹斯特 (B)巴黎 (C)倫敦 (D)馬德里。

答：C

解析：白金漢宮為英國女王的居所，位於倫敦市中。

難易度：易

47.()歐債風暴時期，德國由於工業基礎穩健，受到的衝擊較小，甚至一躍成為歐洲經濟霸主。請問：該國主要的工業區都是因為擁有哪一種天然資源而逐漸發展起來的？ (A)石油 (B)鐵礦 (C)煤礦 (D)水力。

答：C

解析：德國境內的魯爾區、薩爾區、薩克森區皆是煤礦產地，成為該國工業發展的有利條件。

難易度：中

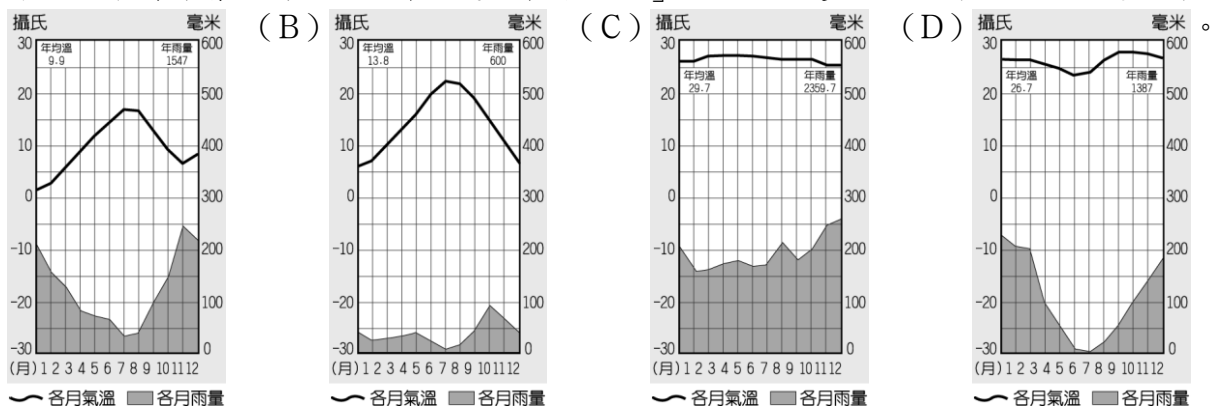
48.()王維是個鐵道迷，所以他前往歐洲旅行時，特別安排搭乘「歐洲之星」的跨國列車之旅。請問：其路線應該為下列何者？ (A)法國→義大利 (B)英國→法國 (C)英國→西班牙 (D)法國→德國。

答：B

解析：「歐洲之星」火車穿越英吉利海峽，連接法國與英國。

難易度：中

49.()英國俗諺說：「有一個方法可以預測下雨，非常的有用。看看窗外，如果窗外是一片藍天，那就表示馬上就要下雨了；如果窗外看不到藍天，那就是正在下雨。」從這個俗諺可以推測，英國的氣候圖應為下列何者？ (A)



答：A

解析：英國屬全年有雨的溫帶海洋性氣候。

難易度：中

50.()歐洲的發展過程和水運關係甚大，由附圖中該河流經的國家判斷，該河川最可能為下列何者？ (A)波河 (B)塞納河 (C)多瑙河 (D)萊茵河。



答：D

解析：萊茵河由荷蘭鹿特丹入海。

難易度：中

51.()英國為工業革命的發源地，因今日在附圖中哪一個海域開採出大量石油，而有利於提供該國的動力資源？ (A)甲 (B)乙 (C)丙 (D)丁。



答：B

解析：甲為波羅的海，乙為北海，丙為大西洋，丁為地中海。

難易度：中

52.()美國在面臨金融風暴之時，曾要求歐洲某國的銀行業配合調查，以了解美國企業是否有掏空公司資產的行為，但這個以銀行業及鐘錶、旅遊業為主的國家卻斷然拒絕交出秘密帳戶的企業名單。請問：上文中所指的某國最可能為下列何者？ (A)法國 (B)德國 (C)瑞士 (D)英國。

答：C

解析：瑞士的精密工業及金融服務發達，為該國主要的經濟來源。

難易度：中

53.()萊茵河流經歐洲主要的工業區，過去因汙染嚴重而有「歐洲下水道」的惡名，近年來整治得相當成功，成為許多國家的借鏡。請問：若要對該河川進行實地考察，應該前往歐洲何處？ (A)東歐 (B)北歐 (C)南歐 (D)西歐。

答：D

解析：萊茵河主要流經西歐，由荷蘭注入北海。

難易度：中

54.()本寧山為英國經濟起飛的重要據點，這和下列何種因素關係最為密切？ (A)人口眾多 (B)航運便利 (C)煤礦分布 (D)石油開採。

答：C

解析：工業革命所使用的煤礦分布於本寧山周圍地區。

難易度：中

55.()英國曾經號稱為「日不落國」(指太陽不論何時都會照在其領土上的帝國)，其由來和下列何者關係最為密切？
(A)殖民地多 (B)海岸線長 (C)煤礦豐富 (D)工業發展。

答：A

解析：英國在殖民時期的殖民地遍布世界各地，因此有「日不落國」之稱。

難易度：中

56.()英國本寧山南邊的伯明罕素有「黑鄉」之稱，這是因為該地區富藏何種礦產？ (A)石油 (B)煤礦 (C)鐵礦
(D)天然氣。

答：B

解析：本寧山為英國重要的煤礦產區。

難易度：中

57.()歐洲境內哪一個國家平原面積遼闊、氣候宜人，農業活動發達，成為重要的農業出口國？ (A)英國 (B)義大利
(C)法國 (D)西班牙。

答：C

解析：法國的平原廣大，加上氣候溫和溼潤，因此有利於農業發展。

難易度：中

58.()法國為歐洲最大的農業出口國，2012年的農業產值達到750億歐元。下列有關該國農業活動的敘述，何者較不正
確？ (A)附加價值較高 (B)發展精緻農業 (C)講究行銷策略 (D)低價搶攻市場。

答：D

解析：法國農產品銷售講究包裝及品牌，因此價格普遍高昂。

難易度：中

59.()我國的農委會有鑒於臺灣農業面臨外國農產的激烈競爭，因此計畫將臺灣農作升級，發展精緻農業。請問：若相關
人員欲考察精緻農業的行銷、包裝、品牌經營等策略，應該前往下列何國最有收穫？ (A)法國 (B)英國 (C)中國 (D)泰國。

答：A

解析：法國向以精緻農業著名。

難易度：中

60.()法國的氣候宜人、平原廣闊，有利於農業活動。請問：該國的氣候類型主要為何？ (A)溫帶大陸性氣候 (B)熱
帶雨林氣候 (C)溫帶季風氣候 (D)溫帶海洋性氣候。

答：D

難易度：中

61.()附圖為法國知名的博物館，每年都吸引許多來自世界各地的旅客前往參觀。請問：該博物館位於哪一個都市？ ()
A)尼斯 (B)里昂 (C)波爾多 (D)巴黎。



答：D

解析：羅浮宮博物館位於巴黎市區。

難易度：中

62.()法國的蔚藍海岸位於南部，氣候宜人，是著名的度假勝地，當地的氣候類型為下列何者？ (A)溫帶海洋性氣候
(B)溫帶地中海型氣候 (C)溫帶大陸性氣候 (D)高地氣候。

答：B

解析：法國南端濱臨地中海，屬於夏乾冬雨的溫帶地中海型氣候。

難易度：中

63.()德國的工業產品向以創新及高品質著稱，請問：該國工業發展的特色不包括下列何者？ (A)豐富的煤礦 (B)便
利的水運運輸 (C)以精緻聞名 (D)實事求是的民族性。

答：C

解析：工業產品以精緻聞名的是法國。

難易度：中

64.()德國的便捷河運對於工業活動幫助甚大，其主要河川的入海口多位於下列何處？ (A)黑海沿岸 (B)地中海沿岸 (C)北海沿岸 (D)大西洋沿岸。

答：C

解析：德國北部為北海海域。

難易度：中

65.()法國和德國皆為歐洲四大工業國家，其發展和境內自然資源的豐富關係甚大。附表有關這兩國自然資源的分布狀況，何者正確？ (A)甲 (B)乙 (C)丙 (D)丁。

	甲	乙	丙	丁
德國	石油	水力	煤礦	風力
法國	鐵礦	煤礦	鐵礦	太陽能

答：C

解析：法國富藏鐵礦，而德國煤礦豐富。

難易度：中

66.()德國魯爾區傳統的工業都市再造，已成為世界各國都市計畫的範本。請問：該都市發展初期主要是依賴何種礦藏的開採？ (A)石油 (B)煤礦 (C)鐵礦 (D)天然氣。

答：B

解析：魯爾區為德國重要的煤礦產區。

難易度：中

67.()交通部局長研究德國的河運網路，發現當地的運河多採東西方向興建。請問：這種特色和下列何者關係最大？ (A)岩層軟硬 (B)降雨多寡 (C)冰河作用 (D)河川流向。

答：D

解析：德國的地形南高北低，主要河川多由南向北流，因此運河以東西向為主。

難易度：中

68.()萊因河為歐洲最重要的航運河川，這是因為該流域具有下列何種特性？ (A)水位穩定 (B)冬不結冰 (C)流經工礦產區 (D)可供水力發電。

答：C

解析：萊因河流經主要的工礦產區，因此航運發達。

難易度：中

69.()荷蘭境內有許多土地低於海平面以下，該國以何種方式來增加生活空間？ (A)興建高樓 (B)移民海外 (C)填海造陸 (D)開闢梯田。

答：C

解析：荷蘭以填海造陸的方式增加土地面積。

難易度：中

70.()荷蘭在沿海地區種植牧草，發展酪農業。這是因為該地區具有何種特色？ (A)地勢起伏大 (B)地質不穩定 (C)降雨量豐富 (D)土壤鹽分高。

答：D

解析：荷蘭的沿海地區多為填海造陸而成的新生地，鹽分高，不宜從事農業活動。

難易度：中

71.()荷蘭的沿海地區多為填海造陸所形成的新生地，以發展何種產業為主？ (A)重工業 (B)養殖漁業 (C)酪農業 (D)水稻耕作。

答：C

解析：沿海地區因為土壤鹽分重，故多種植牧草，發展酪農業。

難易度：中

72.()荷蘭土地面積不大且地勢低窪，因此被稱為低地國。請問：該國主要的農牧產品為哪些？ (A)牛肉、水果 (B)乳品、花卉 (C)小麥、棉花 (D)葡萄、乳品。

答：B

解析：荷蘭主要種植牧草以發展酪農業，另積極種植附加價值高的花卉。

難易度：中

73.()臺糖近年來積極拓展蘭花外銷，該公司若欲參考外國花卉產業的運作過程，應該前往何國取經較有收穫？ (A)德國 (B)法國 (C)英國 (D)荷蘭。

答：D

解析：荷蘭為歐洲花卉園藝業最為發達的國家。

難易度：中

74.()荷蘭人傳統上以穿著木鞋為主，這和下列何項因素關係最大？ (A)土地低溼 (B)林地廣大 (C)缺乏布料 (D)便於捕魚。

答：A

解析：荷蘭因為填海造陸，土地低溼，故居民多穿木鞋防水。

難易度：中

75.()小名到歐洲旅行，在某國家拍了一張當地傳統穿著的照片，如附圖。請問：該照片所呈現的應該為哪一個國家的特色？ (A)德國 (B)法國 (C)英國 (D)荷蘭。



答：D

解析：荷蘭因為土地低溼，居民喜歡穿木鞋防水。

難易度：中

76.()荷蘭雖然面積不大，但國家發展卻具有特色。下列有關荷蘭的敘述，何者不正確？ (A)低地國 (B)鬱金香王國 (C)日不落國 (D)萊因河門戶。

答：C

解析：日不落國為英國。

難易度：中

77.()比利時為歐盟創始會員國之一，其首都也是歐盟總部所在。請問：該國發展工業的有利條件不包括下列何者？ (A)盛產鐵礦 (B)地勢平坦 (C)交通便利 (D)人口眾多。

答：D

難易度：中

78.()盧森堡為歐洲的內陸小國，其主要產業活動為哪些？ (A)金融業、牧業 (B)鋼鐵工業、金融業 (C)金融業、牧業 (D)牧業、園藝業。

答：B

解析：盧森堡以鋼鐵工業及金融業為主。

難易度：中

79.()盧森堡的金融業相當發達，吸引了世界各國的資金投資。請問：該國有利發展金融業的主要原因為何？ (A)世界重要證券市場 (B)歐洲聯盟總部所在 (C)低稅率的金融政策 (D)港口轉口貿易發達。

答：C

解析：盧森堡以低稅率政策吸引國際資金，發展金融業。

難易度：中

80.()瑞士為世界著名的旅遊勝地，觀光業相當發達。請問：該國有何種自然景觀相當壯觀，因此吸引了世界各地的遊客前往攬勝？ (A)火山地形 (B)冰河地形 (C)石灰岩地形 (D)海岸地形。

答：B

難易度：中

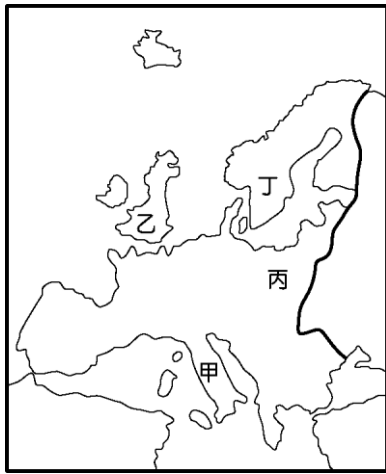
81.()歐洲的阿爾卑斯山為當地重要的地形脊梁，位於該山區的國家不包括下列何者？ (A)盧森堡 (B)法國 (C)瑞士 (D)奧地利。

答：A

解析：盧森堡未位於阿爾卑斯山區。

難易度：中

82.()歐洲的工業發展甚早，且產品藉由便利的運輸行銷世界各地。請問：歐洲的工業發展起自於附圖中的哪一個國家？ (A)甲 (B)乙 (C)丙 (D)丁。

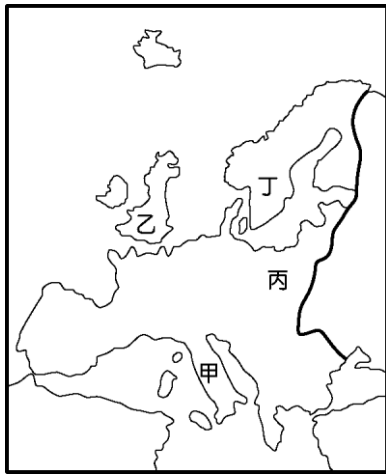


答：B

解析：工業革命起源自英國。

難易度：中

83.()歐洲為工業革命的發源地，附圖中哪一個國家早期依賴煤礦來發展工業，近年來則以發現的海底石油，為經濟發展的新動力？ (A)甲 (B)乙 (C)丙 (D)丁。

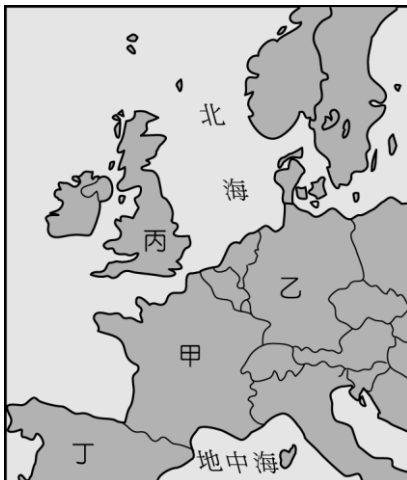


答：B

解析：英國於北海發現石油。

難易度：中

84.()附圖中的哪一個國家因蘊藏豐富的煤礦而工業發達，且因實事求是的民族性，使其工業產品特別堅固耐用，如汽車、通訊等皆廣為全球消費者所信賴？ (A)甲 (B)乙 (C)丙 (D)丁。



答：B

解析：乙為德國。

難易度：中

85.()英國的倫敦被稱為「霧都」，是因該國境內的水氣充足，終年雨日眾多，呈現一片煙霧瀰漫的景觀。請問：該國水氣充足和下列哪一項因素的關係最大？ (A)地勢高聳 (B)緯度較高 (C)西風吹拂 (D)溫帶氣候。

答：C

解析：西風帶來大量水氣，容易形成大霧。

難易度：中

86.()歐洲的萊因河流域跨越多國的工業重心，而成為重要的工業地帶。請問：該河川從附圖中哪一個國家注入海洋，帶動該國港口的發展？ (A)甲 (B)乙 (C)丙 (D)丁。



答：B

解析：由荷蘭鹿特丹流入北海。

難易度：中

87.()歐洲的都市景觀十分具有特色，每年均吸引大量的觀光客前來，成為重要的財富來源。請問：附圖中哪一個國家一向以優雅及浪漫著稱，其首都更有「花都」的美稱？ (A)甲 (B)乙 (C)丙 (D)丁。

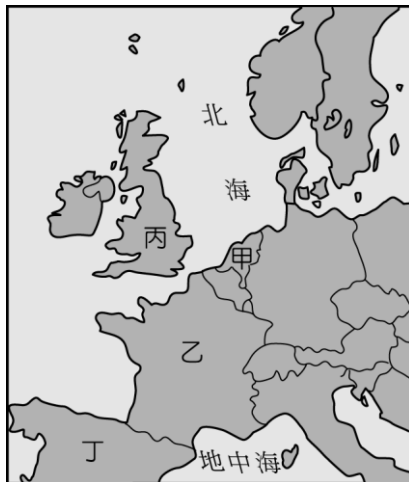


答：A

解析：法國首都巴黎有「花都」之稱。

難易度：中

88.()曉明到臺南參觀古蹟，來到了延平郡王祠，據說是為了紀念將荷蘭人趕走的鄭成功所興建。請問：當時來臺灣的荷蘭人其故鄉位於附圖中何處？ (A)甲 (B)乙 (C)丙 (D)丁。



答：A

難易度：中

89.()交通的發展帶動世界經濟活動的興盛，如16世紀時由於何種交通路線的發展，使得當時歐洲國家能快速累積資金及技術？ (A)鐵路 (B)海運 (C)公路 (D)空運。

答：B

解析：歐洲殖民國家的興起始於航海革命的地理大發現後，當時往來世界各地均以海運為主。

難易度：中

90.()15、16世紀，歐洲國家由於東方香料的運輸路線為阿拉伯人所掌控，因此開啟了航海時期。繼西、葡兩國後，英國勢力達到了極致，成為「日不落國」。請問：當英國船隻離開利物浦港航向大西洋後，大致朝哪一個方向前進至美洲新大陸？ (A)東方 (B)西方 (C)南方 (D)北方。

答：B

解析：歐洲位於大西洋的東方，而美洲則位於大西洋的西方，因此主要朝西方前進。

難易度：中

91.()1992年歐盟成立，世界重心的版圖驟然改變。各會員國打破國界的限制，交流更加頻繁，對於經濟發展極為有利。如住在比利時的居民可以每天開車前往其西側的哪一個國家工作？(A)德國 (B)荷蘭 (C)義大利 (D)法國。

答：D

解析：依地理位置判斷，比利時的西側為法國。

難易度：中

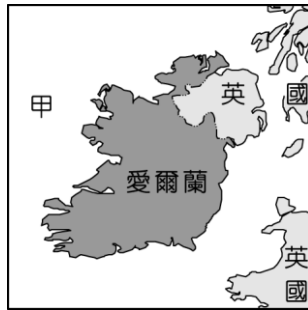
92.()歐洲位於世界最大的歐亞大陸板塊上，境內國家眾多，其地理位置各不相同。位於歐洲的島國不包括下列哪一個國家？(A)冰島 (B)荷蘭 (C)愛爾蘭 (D)英國。

答：B

解析：荷蘭位於歐亞大陸上，不是島國。

難易度：中

93.()附圖為愛爾蘭的地理位置示意圖，請問：圖中甲地的海洋應該為下列何者？(A)北海 (B)英吉利海峽 (C)大西洋 (D)波羅的海。

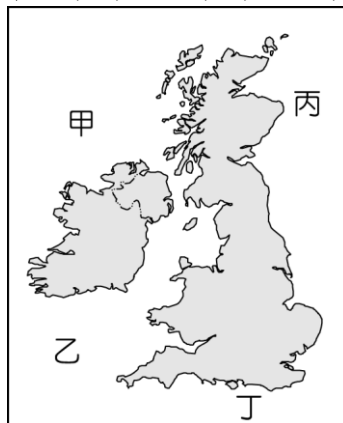


答：C

解析：愛爾蘭為島國，西側面臨大西洋。

難易度：中

94.()20世紀時英國在沿海地區發現石油，為該國的工業發展帶來新動力，也成為今日重要的經濟基礎。請問：該國開採石油的海域位於附圖中何處？(A)甲 (B)乙 (C)丙 (D)丁。



答：C

解析：英國的石油開發位於北海。

難易度：中

95.()法國每年有超過七千五百萬人次的旅客量，長年位居世界最主要的旅遊目的地國，帶來豐富的觀光收益。例如每年湧入上百萬遊客的白朗峰即位於哪一座山脈中？(A)庇里牛斯山 (B)本寧山 (C)阿爾卑斯山 (D)中央山地。

答：C

解析：白朗峰高度超過4,800公尺，為阿爾卑斯山第一高峰。

難易度：中

96.()世界著名的坎城影展就在法國南瑞的蔚藍海岸舉辦，來自世界各地知名影星到此參展，成為當地的年度盛事。附圖照片為當地美麗的景色，請問：圖中的海洋為下列何者？(A)大西洋 (B)北海 (C)黑海 (D)地中海。

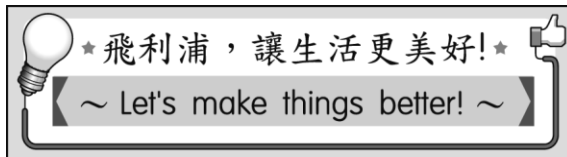


答：D

解析：蔚藍海岸位於法國南部的地中海沿岸。

難易度：中

97.()圖(一)中的廣告點出該公司的發展宗旨，該公司的產品一直都深受消費者的青睞。請問：該公司應是來自於圖(二)中的哪一個國家？ (A)甲 (B)乙 (C)丙 (D)丁。



▲圖(一)



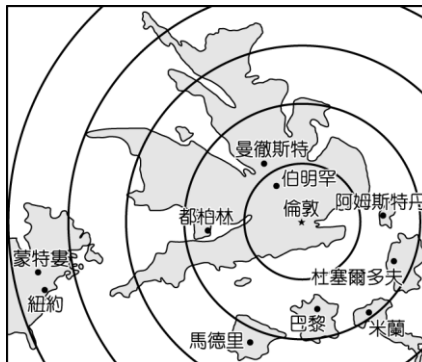
▲圖(二)

答：C

解析：荷蘭的面積雖不大，但是產業活動卻相當發達，如知名啤酒海尼根及家電品牌飛利浦皆來自該國。

難易度：中

98.()附圖是利用平均旅行時間作為比例尺，而以英國倫敦為中心所繪製的地圖。請問：若依圖中位置判斷，倫敦至蒙特婁的交通必須經過下列哪一個海洋？ (A)大西洋 (B)太平洋 (C)印度洋 (D)北海。



答：A

解析：由圖中的位置可以看出，蒙特婁和紐約位於北美洲，因此由倫敦前往該區須通過大西洋。

難易度：中

99.()全球產業發展的過程中，歐洲國家由於最早進入工業化階段，因此都市化程度較高。請問：帶動上述特色的國家為下列何者？ (A)英國 (B)德國 (C)美國 (D)法國。

答：A

解析：英國為工業革命的發源地。

難易度：中

100.()工業發展歷史：「該國利用本寧山周圍盛產的煤礦，大規模機械化動力取代勞力，加上海外殖民地豐富的天然資源與市場，成為當時世界經濟的霸主。」請問：上文所敘述的為哪一個國家？ (A)美國 (B)法國 (C)英國 (D)德國。

答：C

解析：本寧山位於英國，利用煤礦興起工業革命發展經濟。

難易度：中

- 101.()西歐的工商業發達和該地區航運便利關係密切。請問：附表有關該地區的海運、河運條件敘述，何者正確？ (A)甲 (B)乙 (C)丙 (D)丁。

	甲	乙	丙	丁
海運	大西洋	太平洋	大西洋	太平洋
河運	多瑙河	萊因河	萊因河	塞納河

答：C

解析：西歐對外以大西洋為主，內陸航運則為萊因河。

難易度：中

- 102.()英國的工業發展和當地的礦藏開發關係相當密切，附表有關英國各時期工業發展與礦產的敘述，何者最為正確？ (A)甲 (B)乙 (C)丙 (D)丁。

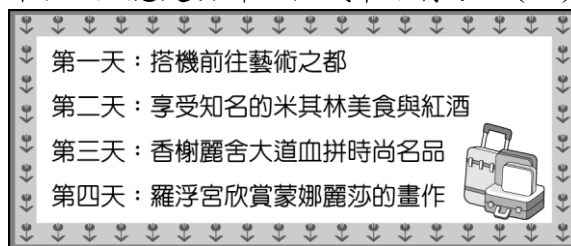
	甲	乙	丙	丁
18世紀	煤礦	煤礦	鐵礦	石油
20世紀	鐵礦	石油	石油	太陽能

答：B

解析：發展初期以煤礦為主，進入20世紀後則以石油為主。

難易度：中

- 103.()王媽媽參加旅行團，行程如附圖所示，她應是去哪一個城市旅行？ (A)倫敦 (B)柏林 (C)羅馬 (D)巴黎。



答：D

解析：羅浮宮、美食、紅酒等皆為法國巴黎的特色。

難易度：中


- 104.()德國境內的氣候介於溫帶海洋性及溫帶大陸性之間，具有過渡性特徵，其主要的影響因素為何？ (A)地勢高低 (B)洋流特性 (C)地理位置 (D)高氣壓籠罩。

答：C

解析：德國因位於歐洲的中部，氣候具有過渡性特徵。

難易度：中

- 105.()附圖為一則旅遊新聞，由圖中內容判斷，這座吊橋最可能位於下列哪一國家境內？ (A)德國 (B)瑞典 (C)盧森堡 (D)瑞士。



答：D

解析：瑞士為阿爾卑斯山區的小國，有壯觀的冰河地形。

難易度：中

- 106.()瑞士的面積不大且位於高山，當地為因應自然環境的限制，而發展出哪一產業？ (A)汽車工業 (B)食品加工業 (C)重化工業 (D)精密工業。

答：D

解析：瑞士目前的經濟活動以精密工業及金融業為主。

難易度：中

- 107.()圖(一)為西歐某國的風車景觀。早期利用風車葉片轉動可以用來排水，以便進行酪農業的開發。請問：這個國家位於圖(二)中何處？ (A)甲 (B)乙 (C)丙 (D)丁。



▲圖(一)



▲圖(二)

答：B

解析：風車為荷蘭的特色景觀，早期是為了利用風車的風力來促進當地酪農業的發展。

難易度：中

108.()澳洲、紐西蘭位於遙遠的太平洋上，而加拿大與英國也相隔整個大西洋，然而這些國家的元首都是英國女皇，並為同一個國際組織的會員國。請問：形成該組織的緣由為下列何者？ (A)世界大戰 (B)語言相同 (C)殖民歷史 (D)宗教信仰。

答：C

解析：文中所指組織為大英國協，其會員國皆為早期英國的殖民地，獨立後所共同組成。

難易度：中

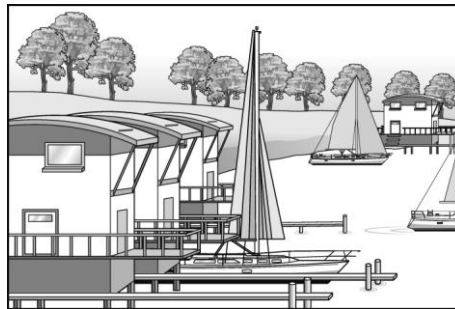
109.()西歐近日由於受到大西洋的暴風雨影響，海上石油的開採量大為減少，這將直接導致下列哪一產油區石油產量銳減？ (A)波斯灣杜拜原油 (B)西德州原油 (C)北海布蘭特原油 (D)阿拉斯加北坡原油。

答：C

解析：西歐的石油開採主要在北海。

難易度：中

110.()人類活動和大自然的關係由早期人定勝天逐漸轉為互相適應的觀念，如附圖為某個國家因為地勢低，為預防水患的發生，以漂浮屋取代早期的堤防，正是最佳的範例。請問：該現象最可能出現於何國？ (A)法國 (B)英國 (C)冰島 (D)荷蘭。



答：D

解析：荷蘭有四分之一國土低於海平面以下，因為地勢低窪，易發生水患，所以設計出漂浮屋。

難易度：中

111.()該國自 1588 年擊敗當時的無敵艦隊後，便成為世界海上的新霸主，殖民地遍布各洲，幾乎占世界四分之一的土地，如附圖所示，現在殖民地紛紛獨立，但各國仍組成團體維繫關係，並在經濟發展上互相合作。請問：上述中的殖民國是指下列哪一個國家？ (A)法國 (B)西班牙 (C)英國 (D)荷蘭。

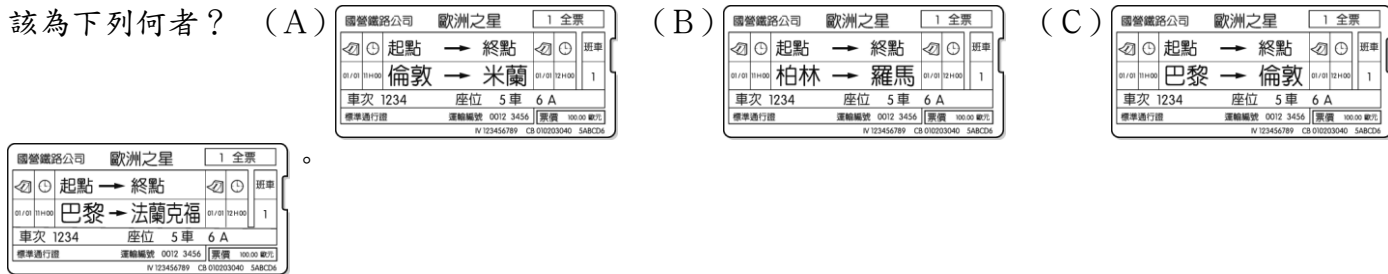


答：C

解析：印度、澳洲及北美洲等地昔日皆為英國的殖民地；獨立建國的合組成大英國協，進行經濟上的合作。

難易度：中

112.()王先生一家人到歐洲旅行，搭乘了著名的歐洲之星，體驗獨特的跨國旅行經驗。請問：其車票上的起訖地點標示應該為下列何者？ (A) (B) (C) (D)

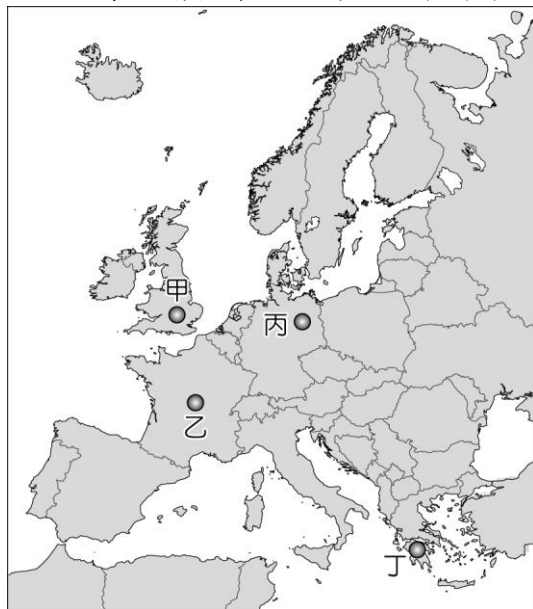


答：C

解析：歐洲之星主要通行英國和法國之間，穿越英吉利海峽，連接英國倫敦、法國巴黎和比利時布魯塞爾。

難易度：中

113.()2011年的歐債風暴席捲全球，連我國都深受其影響。歐盟針對該問題召開紓困會議時，附圖中的哪一個歐盟國家由於經濟產值最高，因此由該國總理主導相關程序的進行？ (A)甲 (B)乙 (C)丙 (D)丁。

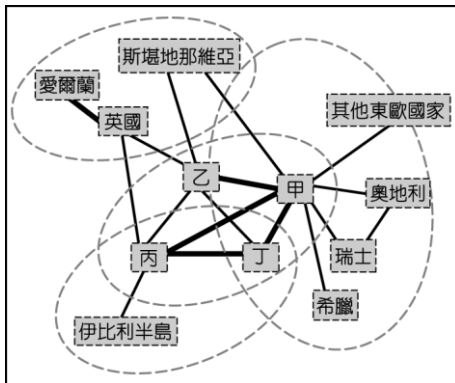


答：C

解析：德國為歐洲經濟產值最高的國家。

難易度：難

114.()歐盟成立後，各會員國之間的人貨交流相當順暢，因此貿易活動更加頻繁。請問：附圖中甲國應該為下列何者？ (A)法國 (B)德國 (C)西班牙 (D)義大利。



答：B

解析：德國位於西歐和東歐的交接帶，經濟產值為歐洲最高，因此應該為甲。乙為荷蘭；丙為法國；丁為義大利。

難易度：難

115.()《達文西密碼》書中曾提及，當時為了躲避天主教教廷的追殺，保護聖盃的騎士們曾經試圖將其藏到玫瑰線（本初經線）以西的地區。當時這些騎士們所認為的西方之地，疆域全位於西半球境內，和教廷梵蒂岡的勢力範圍距離最遠。請問：這個地點最可能為下列何者？ (A)義大利 (B)希臘 (C)挪威 (D)愛爾蘭。

答：D

解析：本初經線通過英國，選項中只有愛爾蘭位於英國以西，屬於西半球。

難易度：難

116.()法國和美國之間由於畜牧產品的進口而產生爭端，美國因此全面提高法國乳酪的關稅，此時最有利於哪一個歐洲國家趁機向美國推銷乳酪，擴大酪農業的市場版圖？ (A)英國 (B)義大利 (C)荷蘭 (D)捷克。

答：C

解析：荷蘭僅以大西洋和美國相望，且該國境內酪農業相當發達。

難易度：難

117.()歐洲為工業革命的發源地，工商業發達。請問：最早展開工業革命的國家，其主要氣候類型為下列何者？ (A)甲 (B)乙 (C)丙 (D)丁。

氣候類型	氣溫分布	年溫差	雨量分布
甲	夏涼冬暖	小	全年有雨
乙	夏熱冬寒	大	夏雨冬乾
丙	夏熱冬寒	大	終年乾燥
丁	夏熱冬暖	不大	夏乾冬雨

答：A

解析：英國是工業革命的發源地，屬溫帶海洋性氣候。甲為溫帶海洋性氣候，乙為溫帶大陸性氣候，丙為溫帶沙漠氣候，丁為溫帶地中海型氣候。

難易度：難

118.()法國的葡萄酒相當著名，成為當地的文化特色，果園酒莊更成為觀光景點。請問：下列有關該國葡萄酒的相關敘述，何者最為正確？ (A)生長於溫帶大陸性氣候區 (B)以大規模機械化方式經營 (C)以物美價廉的方式行銷全球 (D)為附加價值高的精緻農業。

答：D

解析：(A)生長於溫帶地中海型氣候(B)勞力密集的經營採收(C)價格高昂的精緻農業。

難易度：難

119.()西歐的英國、法國及荷蘭等國自然環境優越，氣候良好。請問：下列有關西歐的氣候介紹，何者不正確？ (A)甲 (B)乙 (C)丙 (D)丁。

甲	氣候類型	中緯度大陸西岸地區，溫帶海洋性氣候為主
乙	氣溫特色	冬季沿海溫暖，涼流經過，冬季不冷
丙	降雨特色	終年有雨，西風吹拂
丁	氣候影響	沿海港口冬不結冰，利於大西洋航運發展

答：B

解析：冬季氣溫溫暖是受北大西洋暖流經過的影響。

難易度：難

120.()附圖為某經濟組織的會員國分布圖，其中深色區域為該組織的核心國家。若依圖中資料加以判斷，該組織最可能為下列何者？ (A)歐盟 (B)世界貿易組織 (C)大英國協 (D)亞太經濟合作會議。



答：C

解析：圖中英國為中心，且分散各地的加拿大、印度、澳洲等國家皆為會員，故為當時遍及世界各地的日不落國所組成的組織——大英國協。

難易度：難

121.()荷蘭和臺灣皆為地狹人稠的地區，附表有關兩者的比較，何者最為正確？ (A)鄰近海域 (B)土地面積 (C)主要地形 (D)主要河川。

	鄰近海域	土地面積	主要地形	主要河川
臺灣	臺灣海峽	土地較大	山脈為主	淡水河
荷蘭	波羅的海	土地較小	平原低地	多瑙河

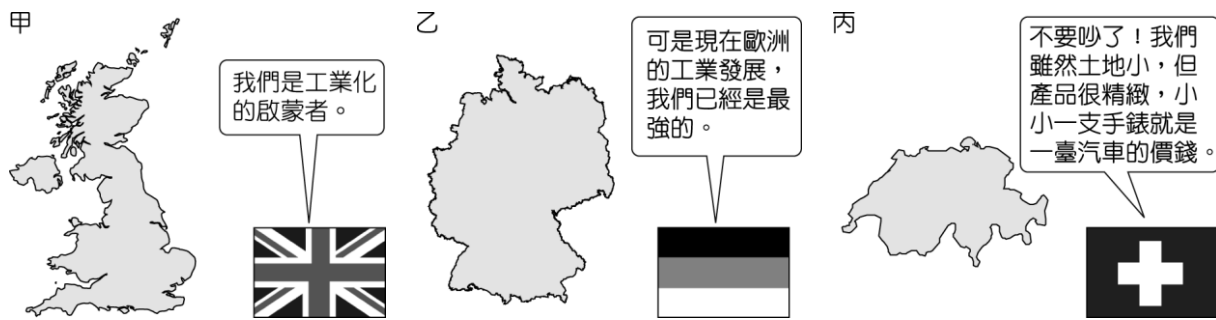
答：C

解析：荷蘭面臨北海，土地面積較臺灣大，其主要河川為萊茵河。

二、題組

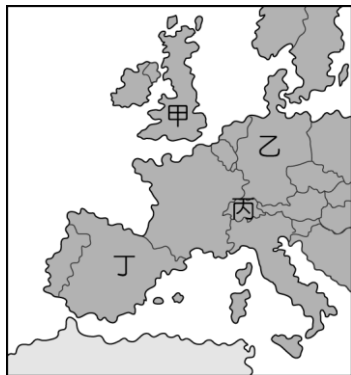
難易度：中

1.圖(一)為《看漫畫學歐洲地理》一書中的內容，請問：



▲圖(一)

- () (1)圖(一)中甲國家是由於何種礦產資源的開發利用，因此開啟了工業革命的序幕？ (A)煤礦 (B)鐵礦 (C)水力 (D)石油。
- () (2)圖(一)中乙國家由於資源豐富，技術進步，再加上實事求是的精神，因此成為今日歐盟工業實力最強的國家。請問：該國應位於圖(二)中何處？ (A)甲 (B)乙 (C)丙 (D)丁。



▲圖(二)

- () (3)圖(一)中丙國家最可能位於哪一個地形區中？ (A)歐洲大平原 (B)伊比利半島 (C)阿爾卑斯山 (D)基阿連山。
- () (4)圖(一)中丙國家的主要產業除了著名的鐘錶工業外，還包括下列何種？ (A)電子業 (B)時尚業 (C)金融業 (D)航運業。

答：(1)A；(2)B；(3)C；(4)C

解析：(1)工業革命的發源地為英國，和煤礦的開採關係最大。

(2)乙為德國，為歐盟目前工業實力最強的國家。

(3)以手錶著名的國家為瑞士，分布於阿爾卑斯山區。

(4)瑞士的金融業由於制度健全，以信譽卓著聞名。

難易度：中

2.歐洲在古希臘、羅馬時代的發展，成為西方文化的起源。近代更由於工業革命的影響，在世界各地的影響力日益增強。請問：



- () (1)歐洲的某個國家，在早期國勢最強時，殖民地遍布各洲，號稱「日不落國」。就其分布位置而言，該國位於附圖中何處？ (A)甲 (B)乙 (C)丙 (D)戊。
- () (2)歐洲為工業革命的發源地，日後的殖民活動更擴展了其商業貿易往來範圍。請問：工業革命最早起源於附圖中哪一個國家？ (A)甲 (B)乙 (C)丁 (D)戊。
- () (3)目前歐洲由於下列哪一個區域性經濟組織的成立，加速了歐洲地區的整合，使該地區的工業產品更有競爭力？ (A)北大西洋公約組織 (B)歐洲聯盟 (C)世界貿易組織 (D)聯合國。

答：(1)D；(2)D；(3)B

難易度：中

3.德國的工業發展相當發達，其產值為歐洲主要工業國家之首。近年來該國積極發展環保工業，希望在經濟發展之時，也能兼顧到地球的永續生存。請問：

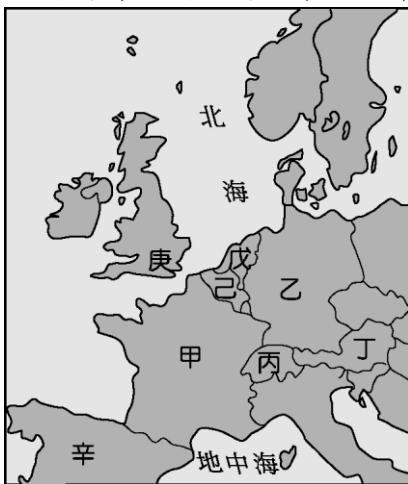
- () (1)德國發展工業的條件相當優秀，其工業產品銷往全球各地，普遍受到歡迎。請問：該國工業發展和下列何種礦藏的分布關係最大？ (A)鐵礦 (B)石油 (C)煤礦 (D)水力發電。
- () (2)德國近年來積極發展環保能源產業，已有良好的成效。目前該國對於哪些環保能源的利用領先世界各國？(甲)洋流(乙)水力(丙)風力(丁)太陽能 (A)甲乙 (B)丙丁 (C)甲丙 (D)乙丁。
- () (3)德國位於歐洲的中部，因此交通發展相當重要，有利於各國間的貿易往來。德國將資源對外運輸多利用下列何種方式？ (A)阿爾卑斯山的天然孔道 (B)北海海域 (C)萊因河水運 (D)航空運輸。

答：(1)C；(2)B；(3)C

解析：(2)德國的太陽能及風力發電產業居全球領先地位。

難易度：中

4.歐洲有很多國家，且各國皆有其發展的特色。附圖為歐洲主要國家的分布簡圖，請根據附圖中資料，回答下列問題：



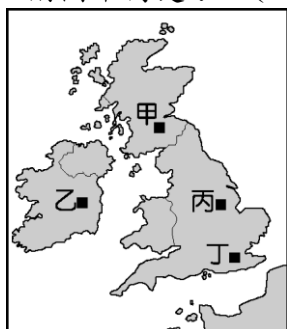
- () (1) 歐洲境內因為文化豐富，歷史古蹟等觀光景點相當眾多，每年都吸引大量觀光客前來遊覽。請問：圖中哪一個國家文化古蹟豐富、時尚工業相當發達，其首都都有「花都」之稱？ (A)甲 (B)乙 (C)丙 (D)丁。
- () (2) 2006 年的世界盃足球賽在歐洲舉辦，舉辦國的經濟實力為歐洲之冠，工業相當發達。請問：上述所指的國家位於圖中哪一個地區？ (A)甲 (B)乙 (C)壬 (D)辛。
- () (3) 歐洲國家在地理大發現後，於海外各洲紛紛取得殖民地，為其後來的經濟發展奠定基礎。請問：圖中哪一個國家的海外殖民地遍布世界各地，有「日不落國」的稱號？ (A)甲 (B)乙 (C)庚 (D)辛。

答：(1)A；(2)B；(3)C

難易度：中

5.英國為工業革命的先驅，其工業化帶動整體歐洲的經濟發展，進而影響全世界的經濟發展。但在第二次世界大戰後，該國的傳統工業活動逐漸面臨產業轉型的問題。請問：

- () (1) 英國工業革命的發生與該國哪一種礦產資源的關係最大？ (A)鐵礦 (B)煤礦 (C)石油 (D)銅礦。
- () (2) 英國在歐盟成立後，藉由英法海底隧道的完成，經濟重心已由大西洋轉至歐洲大陸地區。請問：連接英法海底隧道起迄點之一的英國首都倫敦位於附圖中何處？ (A)甲 (B)乙 (C)丙 (D)丁。




- () (3) 英國近年來由於石油資源的開採，對該國經濟的助益甚大。英國目前開挖石油的地區主要位於哪一個海域？ (A)波羅的海 (B)大西洋 (C)北海 (D)地中海。

答：(1)B；(2)D；(3)C

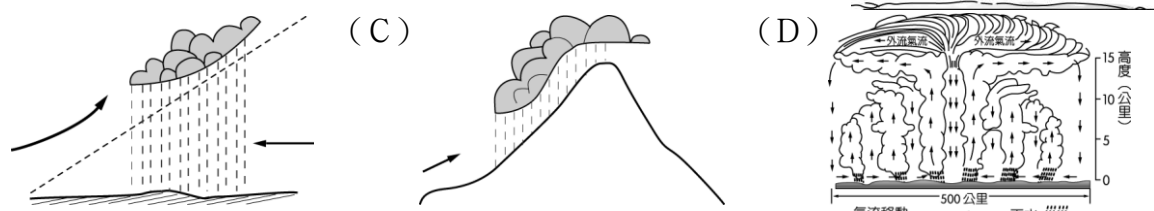
難易度：難

6.在臺北國際旅遊展中，各國觀光局都精心繪製宣傳海報，希望能夠吸引人潮，附圖為會場中的四張海報，請問：



- () (1) 旅遊展中各國觀光局紛紛前來推廣該國觀光，請問：附圖中的四張海報應該擺置於哪一個區域？ (A)北美區 (B)南歐區 (C)拉丁美洲區 (D)西歐區。
- () (2) 乙海報的國家非常重視觀光業，為了拚觀光，甚至放寬假日營業的限制，希望提供旅客更為便利的旅遊環境。請問：該國吸引遊客的特色，較不包括下列何者？ (A)精緻華麗的時尚名品店 (B)雄偉壯麗的高山景觀 (C)鬼斧神工的峽灣美景 (D)熱情洋溢的地中海風情。
- () (3) 丙海報的國家可說是花卉王國，美麗的鬱金香不只點綴該國的景觀，更是出口品的大宗。請問：該國具備優

良的氣候條件，當地何種類型的降雨適合培育花卉？ (A) (B)



() (4) 丁海報上的秀麗山景就是最佳的觀光大使，除此之外，流經該國的哪一條河川也是著名景點，甚至有音樂家為此作曲歌頌？ (A) 萊茵河 (B) 波河 (C) 多瑙河 (D) 塞納河。

答：(1) D ; (2) C ; (3) C ; (4) C

解析：(1) 甲乙丙丁四張海報依序為英國、法國、荷蘭、奧地利。

(2) 乙海報為法國。

(3) 荷蘭屬於溫帶海洋性氣候，終年盛行西風，以地形雨為主。

(4) 奧地利有多瑙河流經。

三、填充題

難易度：易

7. 英國為一個島國，和歐洲大陸間以【 】海峽相隔。

答：英吉利

難易度：易

8. 工業革命對世界經濟的影響很大，其發源地為【 】國。

答：英

難易度：易

9. 地理大發現後殖民主義興起，【 】國因殖民地遍布各洲而號稱「日不落國」。

答：英

難易度：易

10. 英國歷史悠久，對世界的影響力甚大，首都為【 】。

答：倫敦

難易度：易

11. 英國近年來的工業發展得力於在【 】海域發現的石油資源。

答：北海

難易度：易

12. 西歐多平原分布，東南部有【 】山橫亘。

答：阿爾卑斯

難易度：易

13. 西歐境內貫穿各主要國家的水運為【 】河。

答：萊因

難易度：易

14. 英國工業革命發展初期，主要利用【 】山周圍的煤礦。

答：本寧

難易度：易

15. 歐洲最大的農產品出口國為【 】國。

答：法

難易度：易

16. 歐洲境內【 】國的葡萄酒及時尚工業受到世界各國的喜愛。

答：法

難易度：易

17. 【 】因為面積不大，所以積極填海造陸。

答：荷蘭

難易度：易

18.萊因河為歐洲最為重要的經濟水域，最後在荷蘭注入【 】海。

答：北

難易度：易

19.法國的首都【 】，觀光景點眾多，有花都之稱。

答：巴黎

難易度：易

20.歐洲目前以【 】國的工業最為發達，經濟產值最高。

答：德

難易度：易

21.德國的工業極為發達，其發展工業最有利的天然資源為【 】。

答：煤礦

難易度：易

22.瑞士有「滑雪天堂」之稱，其國土皆在【 】山區。

答：阿爾卑斯

四、簡答題

難易度：易

23.發源自瑞士的阿爾卑斯山區，流經德國、法國、荷蘭的歐洲水運動脈是哪一條河川？

答：

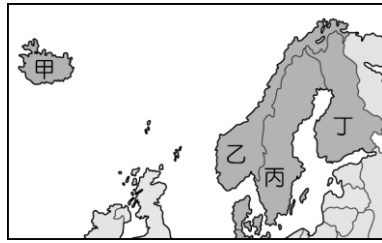
答：萊因河。

1-3-2 北歐

一、單一選擇題

難易度：易

- 1.()北歐的芬蘭利用天然的冰蝕湖和當地盛產的針葉林發展出著名的芬蘭浴，是旅遊當地的觀光客必定體驗的活動。請問：芬蘭位於附圖中何處？ (A)甲 (B)乙 (C)丙 (D)丁。



答：D

解析：甲為冰島，乙為挪威，丙為瑞典，丁為芬蘭。

難易度：易

- 2.()歐洲哪一個地區的國家由於國民福利制度相當健全，因此被譽為最適合居住的地區？ (A)西歐 (B)南歐 (C)北歐 (D)東歐。

答：C

解析：北歐國家的社會福利制度最佳，被評為最適合居住的國家。

難易度：易

- 3.()北歐國家緯度偏高，因此形成當地的發展特色。請問：位於北歐的國家中不包括下列何者？ (A)冰島 (B)芬蘭 (C)捷克 (D)挪威。

答：C

解析：捷克位於東歐。

難易度：易

- 4.()瑞典的汽車、機械、高科技產業均相當發達，該國有利工業發展的條件為下列何者？ (A)人口眾多 (B)生長季長 (C)鐵礦豐富 (D)殖民地多。

答：C

解析：瑞典發展工業的基礎為鐵礦豐富。

難易度：易

- 5.()來自北歐的富豪 (VOLVO) 汽車廣受愛車族青睞，其設計理念更是獲得消費者的認同。請問：該汽車品牌創立於哪一個國家？ (A)挪威 (B)瑞典 (C)英國 (D)丹麥。

答：B

解析：瑞典富含鐵礦，因此汽車業相當發達。

難易度：易

- 6.()北歐的芬蘭境內森林覆蓋率達總面積的 $\frac{2}{3}$ ，若根據該地區的環境特色判斷，其主要分布的森林資源為何者？ (A)闊葉林 (B)針葉林 (C)混合林 (D)灌木林。

答：B

解析：芬蘭位於歐洲北部，氣候寒冷，因此以針葉林分布為主。

難易度：易

- 7.()歐洲境內哪一個國家森林覆蓋率達總面積的 $\frac{2}{3}$ ，加上冰蝕湖所帶來的水力相當豐富，因此有利於發展林業？ (A)挪威 (B)芬蘭 (C)丹麥 (D)瑞典。

答：B

解析：芬蘭緯度高且冰蝕湖多，有利於林業的發展。

難易度：易

- 8.()若臺灣官員欲參考歐美國家的社會福利制度，應該到下列何處進行考察？ (A)北美 (B)西歐 (C)北歐 (D)南美。

答：C

解析：北歐國家的社會福利制度最佳，成為各國考察的對象。

難易度：易

- 9.()北歐國家的發展深受地形及氣候等自然環境的影響。請問：該地區的主體地形為下列何者？ (A)歐洲大平原 (B)阿爾卑斯山 (C)巴爾幹半島 (D)斯堪地那維亞半島。

答：D

難易度：易

10.()挪威早期以航運貿易為主，近年來在下列哪一個地區探勘出石油資源，因此成為該國重要的經濟來源之一？ (A) 基阿連山 (B)斯堪地那維亞半島 (C)波羅的海 (D)北海。

答：D

解析：歐洲的石油主要分布於北海。

難易度：易

11.()小王的媽媽在假日時喜歡前往 IKEA 逛街，欣賞來自北歐的家具設計。請問：該品牌來自於下列哪一個國家？ (A)挪威 (B)瑞典 (C)芬蘭 (D)丹麥。

答：B

解析：瑞典因為氣候冷溼，針葉林多，有利於家具業的發展。

難易度：易

12.()諾貝爾獎每年均會在斯德哥爾摩進行頒獎典禮，2012 年榮獲諾貝爾文學獎的中國大陸作家莫言要前往領獎，必須先申請哪一個國家的簽證？ (A)挪威 (B)瑞典 (C)丹麥 (D)冰島。

答：B

解析：斯德哥爾摩為瑞典的首都。

難易度：易

13.()自然環境的影響經常成為國家的特色，下列哪一個國家因為境內的湖泊眾多，而有「千湖國」的稱號？ (A)挪威 (B)芬蘭 (C)丹麥 (D)冰島。

答：B

解析：芬蘭冰蝕湖多，因此被稱為「千湖國」。

難易度：易

14.()芬蘭近年來經濟轉型成功，其境內早期傳統的產業活動以下列何者為主？ (A)漁業 (B)礦業 (C)林業 (D)農業。

答：C

解析：芬蘭緯度高且冰蝕湖多，有利於林業的發展。

難易度：易

15.()北歐的哪一個國家受到自然環境的影響，主要的產業活動為畜牧業，因此被稱為「歐洲牧場」？ (A)挪威 (B)瑞典 (C)丹麥 (D)芬蘭。

答：C

解析：丹麥的地形平坦，土壤貧瘠，氣候涼溼，因此畜牧業較農業發達。

難易度：易

16.()北歐因位處高緯寒帶地區，氣候普遍嚴寒。其中哪一個北歐國家擁有充足的地熱及溫泉資源，成為當地產業發展的動力來源？ (A)丹麥 (B)挪威 (C)冰島 (D)芬蘭。

答：C

解析：冰島有溫泉及火山地形分布。

難易度：易

17.()附圖為哥本哈根的美人魚銅像，當地也是知名作家安徒生的故鄉。請問：這個國家為何？ (A)英國 (B)德國 (C)丹麥 (D)芬蘭。



答：C

解析：哥本哈根為丹麥的首都，也是安徒生的故鄉。

難易度：中

18.()某部小說中提到有座「冰火島」，該島終年盛行西風，前往該島的航程中不斷有浮冰出現，島上冰天雪地，但卻有溫泉、地熱等景觀，因此得名為「冰火島」。請問：根據上述資料判斷，這個「冰火島」最可是下列於哪一個國家？ (A)挪威 (B)瑞典 (C)冰島 (D)芬蘭。

答：C

解析：冰島地處高緯，為冰雪覆蓋的火山島。

難易度：中

19.()丹麥受到氣候特色的影響，畜牧業較農業活動發達。請問：該地區的氣候特色為何？ (A)涼爽溼潤 (B)炎熱多雨 (C)寒冷乾燥 (D)高溫少雨。

答：A

解析：丹麥為溫帶海洋性氣候，因此氣候涼溼。

難易度：中

20.()北歐的地形深受當地自然環境的影響，該地區以哪一座山脈為骨幹，冰河地形相當發達？ (A)阿爾卑斯山 (B)庇里牛斯山 (C)喀爾巴阡山 (D)斯堪地那維亞山脈。

答：D

難易度：中

21.()王媽媽今年要到北歐的斯堪地那維亞半島旅行，在當地她將見到何種雄偉的地形景觀？ (A)石灰岩地形 (B)沙漠地形 (C)冰河地形 (D)火山地形。

答：C

解析：北歐的緯度較高，冰河地形相當發達。

難易度：中

22.()北歐受到地形因素的影響而不利農業活動。下列有關該地區地形特色的敘述，何者正確？ (A)平原為主、冰河地形 (B)高原分布、火山地形 (C)山丘遍布、石灰岩層 (D)高山分布、冰河地形。

答：D

解析：北歐以斯堪地那維亞山脈為骨幹，冰河地形相當發達。

難易度：中

23.()北歐的沿海港口冬季多不結冰，因此有利於漁業、航運業的進行。請問：造成冬季港口不結冰的主要因素為下列何者？ (A)緯度不高 (B)火山地形 (C)焚風吹拂 (D)暖流經過。

答：D

解析：北歐緯度較高，但因有北大西洋暖流經過，沿岸港口冬不結冰。

難易度：中

24.()北歐國家的航運業相當發達，下列有關該地區航運發展的敘述，何者最為正確？ (A)珊瑚礁海岸分布，有利船隻航運 (B)冬季時寒冷結凍，航運集中夏季 (C)受西風吹拂影響，海水溫度較高 (D)北極圈內港口，冬季可從事航運。

答：D

解析：北極圈內地區有暖流經過，因此海港不結冰，冬季亦可從事航運。

難易度：中

25.()「他們的祖先以海盜維生，縱使在寒冷的極地亦頂著凜冽寒風航行於大西洋，可說是真正的海上居民。」請問：上文中所敘述的地區最可能為下列何處？ (A)東歐 (B)西歐 (C)南歐 (D)北歐。

答：D

解析：北歐位於極圈內，受暖流影響，故冬季可航行於海上。

難易度：中

26.()北歐由於有下列哪一條洋流經過，因此氣候較為溫暖，有利於當地居民從事各種產業活動？ (A)墨西哥暖流 (B)北太平洋暖流 (C)巴西暖流 (D)北大西洋暖流。

答：D

解析：北歐雖地處高緯，但因有北大西洋暖流經過，港口冬不結冰，有利漁業、航運業發展。

難易度：中

27.()近年來，北歐的企業、高收入者遷移至國外情況日漸嚴重，這和何種制度的實施關係最為密切？ (A)共產主義 (B)資本主義 (C)自由經濟 (D)社會福利。

答：D

解析：北歐國家由於社會福利的稅金相當高，造成中產階級外移的情況。

難易度：中

28.()北歐的社會福利來自於人民的納稅錢，近年來由於下列何項因素的影響，該地區的稅率愈來愈高？ (A)資源耗盡 (B)政府貪汙 (C)軍事對抗 (D)高齡社會。

答：D

解析：由於社會日趨高齡化，因此勞動人口的稅率不斷提高。

難易度：中

29.()北歐的企業及高收入者近年來外移至其他國家的情況日漸增加，這和下列何項因素的關係最大？ (A)加入歐盟 (B)稅率提高 (C)政策鼓勵 (D)氣候嚴寒。

答：B

解析：因為社會福利制度所造成的高稅率，導致人口及企業外流。

難易度：中

30.()附表為世界各主要國家的所得稅占 GDP 比率表，請由表中資料判斷，所得稅較高的國家多位於哪一個地區？ (A)北美 (B)東亞 (C)西歐 (D)北歐。

國家	所得稅占 GDP 比率 (%)
挪威	56.8
丹麥	55.9
瑞典	51.4
英國	41.1
美國	17.0
臺灣	16.1

答：D

解析：丹麥、瑞典、挪威均位於北歐。

難易度：中

31.()北歐受到北大西洋暖流的影響，冬季港口不結冰，因此有利於航海貿易。請問：下列哪一個北歐國家的航海貿易最為發達？ (A)瑞典 (B)芬蘭 (C)挪威 (D)冰島。

答：C

解析：挪威多峽灣分布且直接面臨大西洋，因此有利於航海貿易。

難易度：中

32.()臺灣的造船工業相當發達，若相關工程人員欲前往歐洲重要的造船國家進行技術交流，則前往下列何者最為適合？ (A)瑞典 (B)丹麥 (C)挪威 (D)芬蘭。

答：C

解析：挪威面臨大西洋，因此造船工業相當興盛。

難易度：中

33.()芬蘭受到下列何種作用力的影響，境內的水資源相當豐富，有利於產業活動的進行？ (A)風力 (B)冰河 (C)火山 (D)海浪。

答：B

解析：芬蘭境內冰河地形發達，因此冰蝕湖多，水資源豐富。

難易度：中

34.()小美到芬蘭遊學時，發現當地正在推動經濟轉型，由早期的林業轉為現在何種產業的發展？ (A)汽車業 (B)時尚業 (C)鋼鐵業 (D)通訊業。

答：D

解析：芬蘭近年來的經濟發展以通訊業為主。

難易度：中

35.()芬蘭的經濟發展過程，由過去到現在的產業轉型依序為何？ (A)漁業→重工業 (B)林業→通訊業 (C)漁業→採礦業 (D)林業→石化業。

答：B

解析：早期以林業為主，近年來則轉為通訊業。

難易度：中

36.()冰島在 2008 年的金融風暴中受損慘重，目前僅能依賴其他產業活動帶來收益。請問：冰島主要的工業活動為何？ (A)汽車業 (B)航空業 (C)通訊業 (D)煉鋁業。

答：D

解析：冰島利用豐富的動力來發展煉鋁工業。

難易度：中

37.()北歐的冰島位於大西洋上，受到自然環境的影響，當地利用豐富地熱所從事的活動不包括下列何者？ (A)發電能源 (B)煉鋁工業 (C)溫室農業 (D)探勘石油。

答：D

解析：石油多分布於地層較為古老的地區，而火山活動頻繁的地區多為新褶曲板塊。

難易度：中

38.()冰島利用本身具有的哪些天然資源作為能源，發展溫室農業、煉鋁工業？ (A)水力、太陽能 (B)水力、煤礦 (C)地熱、石油 (D)地熱、水力。

答：D

難易度：中

39.()冰島的煉鋁工業相當發達，成為當地重要的收入來源。請問：該地區發展煉鋁最有利的條件為何？ (A)交通便利 (B)動力充足 (C)鋁礦豐富 (D)市場廣大。

答：B

解析：煉鋁業相當耗電，冰島利用地熱發電來提供充足的動力。

難易度：中

40.()下列哪一個國家因北極圈經過，氣候相當嚴寒，在一片雪白世界中被視為聖誕老人的故鄉，每年均有大批的孩子夢想寄往該國？ (A)法國 (B)德國 (C)丹麥 (D)芬蘭。

答：D

解析：選項中僅有芬蘭有北極圈經過。

難易度：中

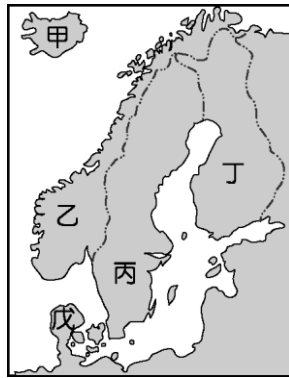
41.()小亭於7月時到北歐旅行，拍下許多照片，作為日後的回憶。在她所拍的照片中，最可能出現下列哪一種特殊自然景觀？ (A)綿長曲折的谷灣海岸 (B)壯觀秀麗的大陸冰河 (C)生態豐富的熱帶雨林 (D)高溫乾燥的農牧活動。

答：B

解析：北歐地處高緯，冰河地形發達。

難易度：中

42.()北歐的峽灣地形遠近馳名，每年均吸引大量遊客前往參觀，為當地帶來可觀的觀光收入。北歐的峽灣主要出現於附圖中哪一個國家？ (A)乙 (B)丙 (C)丁 (D)戊。

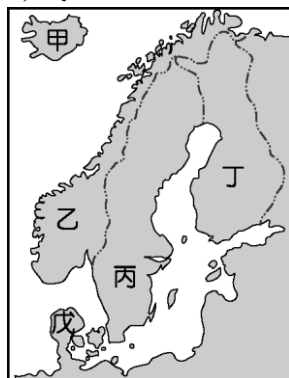


答：A

解析：乙為挪威，峽灣地形分布最多。

難易度：中

43.()2008年所爆發的金融危機影響世界各國，連遠在歐洲，擁有美麗的冰河及火山地形，依靠漁業及溫室栽培蔬果為主的某國，受到高度的投資風險影響，財政幾近破產，成為受害最深的國家。請問：上文中的某國最可能為附圖中何者？ (A)甲 (B)乙 (C)丁 (D)戊。

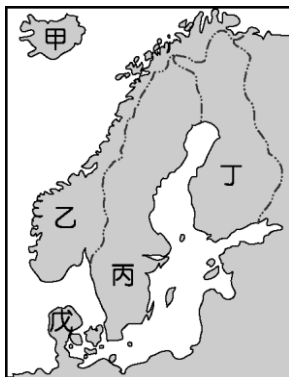


答：A

解析：圖中甲國為冰島，位於板塊活動區，地處高緯，因此火山及冰河地形皆有，因四面環海，故漁業相當發達。

難易度：中

44.()目前北歐的工業活動相當盛行，其中聞名全球的VOLVO汽車、IKEA家具等生產國家，位於附圖中何處？ (A)甲 (B)乙 (C)丙 (D)丁。



答：C

解析：丙地為瑞典。

難易度：中

45.()北歐的緯度高，部分地區甚至進入極圈內，然沿岸港口卻可以終年通航，使得維京人可以往來海上暢行無阻，其最主要的影響因素為何？ (A)地勢較高 (B)暖流經過 (C)峽灣分布 (D)降雨量多。

答：B

難易度：中

46.()西歐國家在16世紀後取代了南歐國家，成為世界最主要的殖民列強，殖民地遍及全球。當時西歐主要的殖民列強中不包括下列哪一國家？ (A)面積廣大的法國 (B)峽灣發達的挪威 (C)海軍強大的英國 (D)貿易興盛的荷蘭。

答：B

解析：挪威的地理位置為北歐。

難易度：中

47.()樂高 (LEGO) 積木伴隨世界各地的小孩成長，組合出他們心目中的世界，近年來更在世界各地陸續興建樂園，讓小孩子的夢想成真。請問：這個品牌源自於下列哪一個國家？ (A)法國 (B)美國 (C)瑞典 (D)丹麥。

答：D

解析：樂高積木來自於丹麥，為全球知名的品牌。

難易度：中

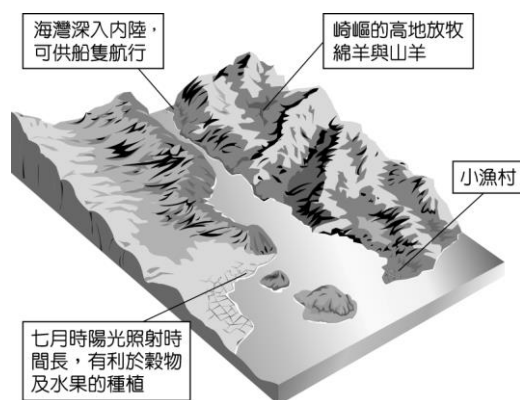
48.()北歐當地的農業活動受到生長條件的影響，多以牧業為主，穀物生產不多，如丹麥即被稱為歐洲牧場。請問：其主要原因為何？ (A)人口稀少 (B)面積狹小 (C)氣候溼冷 (D)市場不大。

答：C

解析：北歐由於緯度偏高，生長季短，故限制農業活動的發展。

難易度：中

49.()請根據附圖所提供的訊息，判斷該地最可能是下列哪一國家海岸地區的典型景觀？ (A)挪威 (B)希臘 (C)日本 (D)西班牙。



答：A

解析：附圖所示為峽灣地形，北歐的挪威峽灣地形發達。

難易度：中

50.()歐洲哪一個地區以山脈為地形骨幹，受到冰河作用的影響，冰蝕谷地相當發達，且在夏季時可以見到永晝現象？ (A)東歐 (B)西歐 (C)南歐 (D)北歐。

答：D

解析：北歐因為緯度高，故氣候嚴寒有冰河地形分布，在極圈以北地區有永晝現象。

難易度：中

51.()北歐的氣溫較同緯度地區為高，有利於當地沿海航運業的發展。請問：造成這種特色的主要原因為下列何者？ (A)暖流經過 (B)地勢較低 (C)位背風坡 (D)地形封閉。

答：A

解析：北歐因有北大西洋暖流經過，氣候較為溫暖，港口冬不結冰。

難易度：中

52.()挪威的航運業相當發達，成為該國重要的經濟來源，該國重要的港口多直接面臨哪一條重要的航海路線上？ (A)太平洋航線 (B)印度洋航線 (C)大西洋航線 (D)北極海航線。

答：C

解析：挪威面臨大西洋，故以北大西洋航線運輸為主。

難易度：中

53.()北歐的挪威早期以海上活動為主，近年來因為何項產業活動的進行，收入大增？ (A)園藝農業 (B)生質能源 (C)石油開採 (D)資訊產業。

答：C

解析：挪威於北海開採石油後，收入大為增加。

難易度：中

54.()瑞典的家具業 (IKEA) 舉世聞名，為該國重要的產業活動。該國發展家具業和下列何者的關係最為密切？ (A)人口眾多 (B)鐵礦開採 (C)航運便利 (D)針葉林廣。

答：D

解析：瑞典因為緯度較高，針葉林廣布，因此林業發達，有利於發展家具業。

難易度：中

55.()該國家為中、西歐和斯堪地那維亞半島之間交通往來必經的陸橋，也是控制波羅的海、北海兩個海域間的通航門戶，素有「北歐十字路口國」之稱。請問：該國家最可能位於附圖中何處？ (A)甲 (B)乙 (C)丙 (D)丁。



答：D

解析：文中所敘述的國家為丹麥。

難易度：中

56.()附圖為米格夏一家人所享受的社會福利制度，由圖中資訊可推測，下列何國是米格夏一家人所定居的國家？ (A)西班牙 (B)德國 (C)瑞典 (D)匈牙利。

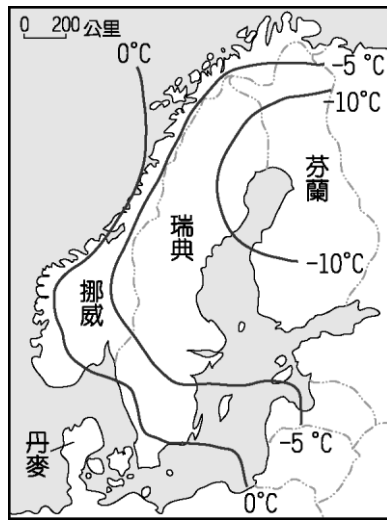


答：C

解析：北歐國家的社會福利從出生到死亡均做好完善照顧，因此被稱為福利國家。

難易度：中

57.()北歐的緯度高，其1月月均溫分布如附圖所示，影響該地區氣溫分布的主要因素為下列何者？ (A)西風 (B)地形 (C)暖流 (D)緯度。



答：C

解析：北歐因有暖流經過，沿海地區較內陸溫暖。

難易度：難

58.()歐洲境內各區域發展的特色皆不相同。附表的整理中，何者最為正確？ (A)甲 (B)乙 (C)丙 (D)丁。

甲	乙	丙	丁
西歐	東歐	北歐	南歐
西方文明萌芽	近代文明重心	社會福利制度	共產經濟轉型

答：C

解析：西歐為近代文明重心；東歐為共產經濟轉型；南歐為西方文明萌芽。

難易度：難

59.()北歐的冰河地形相當發達，影響當地的發展。造成北歐冬季氣候嚴寒的主要原因中，不包括下列何者？ (A)地處高緯 (B)高山分布 (C)寒流經過 (D)太陽斜射。

答：C

解析：該地區因為緯度高，故太陽以斜射為主，氣候寒冷。沿海地區經過的洋流為暖流。

難易度：難

60.()北歐的海岸線長，漁業、航運業相當盛行。請問：下列相關敘述，何者錯誤？ (A)高緯寒冷，多冰河峽灣 (B)海岸線長，西臨大西洋 (C)暖流經過，終年不結冰 (D)地形平坦，港口腹地大。

答：D

解析：北歐以山脈為地形骨幹，因此地形崎嶇，港口腹地不大。

難易度：難

61.()北歐的地表景觀和自然環境的關係甚大。請問：下列何種自然景觀形成的營力和其他三者不同？ (A)冰蝕湖泊 (B)峽灣海岸 (C)地熱蒸氣 (D)水力發電。

答：C

解析：地熱蒸氣為火山作用，其餘則為冰河作用。

難易度：難

62.()芬蘭因為境內湖泊眾多，而有「千湖國」的稱號。請問：該國湖泊眾多和下列何項條件關係最大？ (A)斷層帶上 (B)洋流經過 (C)地處高緯 (D)地勢高聳。

答：C

解析：芬蘭的地勢不高，主要來自於高緯低溫所產生的冰河作用。

難易度：難

63.()北歐的冰島位於北極圈附近，其境內卻有火山地形的分布，最主要的原因為何？ (A)溫室效應 (B)板塊活動 (C)暖流經過 (D)緯度較高。

答：B

解析：冰島位於板塊活動帶上，因此有火山地形的分布。

難易度：難

64.()過去冰島的傳統主食為魚和羊肉，蔬菜、水果均為進口，但是近年來冰島人依賴溫室栽培技術，已經可以種植黃瓜、番茄等蔬果。冰島人傳統飲食型態是受到哪一因素影響？ (A)土地面積狹小 (B)氣候較為寒冷 (C)土壤性質貧瘠 (D)地勢高低起伏。

答：B

解析：冰島因位於北極圈附近，氣候較為寒冷，不利農業活動。

難易度：難

65.()進入 21 世紀後，人口結構對於各國的發展影響漸大，因此受到全球重視。請問：北歐各國賴以為傲的社會福利政策目前倍受考驗，是受到哪一人口問題的影響？ (A) 幼兒出生率居高不下 (B) 社會增加率大幅上升 (C) 人口性別比不平均 (D) 人口組成漸趨高齡化。

答：D

解析：北歐國家由於社會福利制度完善，人民平均壽命長，再加上出生率逐年下降，因此老年人口的比例大幅升高，造成扶養負擔沉重。

難易度：難

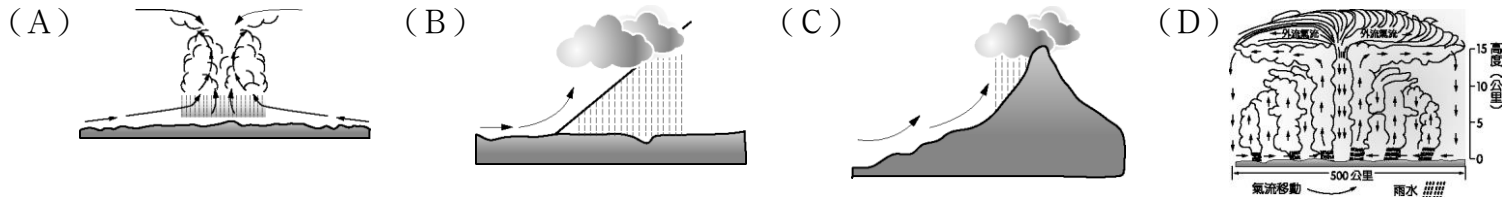
66.()北海小英雄的故鄉——挪威由於峽灣地形發達，因此對於國家的經濟活動助益甚大。請問：該國海岸形成峽灣地形的最主要原因為何？ (A) 冰河溶化，地層下陷 (B) 冰河侵蝕，海水入侵 (C) 斷層陷落，海面上升 (D) 岩性軟弱，海水侵蝕。

答：B

解析：冰河侵蝕形成峽谷，而後受到沉水作用影響，海水侵入海岸地區形成峽灣地形，有利於船隻進出，發展海上活動。

難易度：難

67.()北歐以略呈南北向的斯堪地那維亞山脈為骨幹，該山脈的西側降雨量較為豐富，最主要的降雨型態為下列何者？



答：C

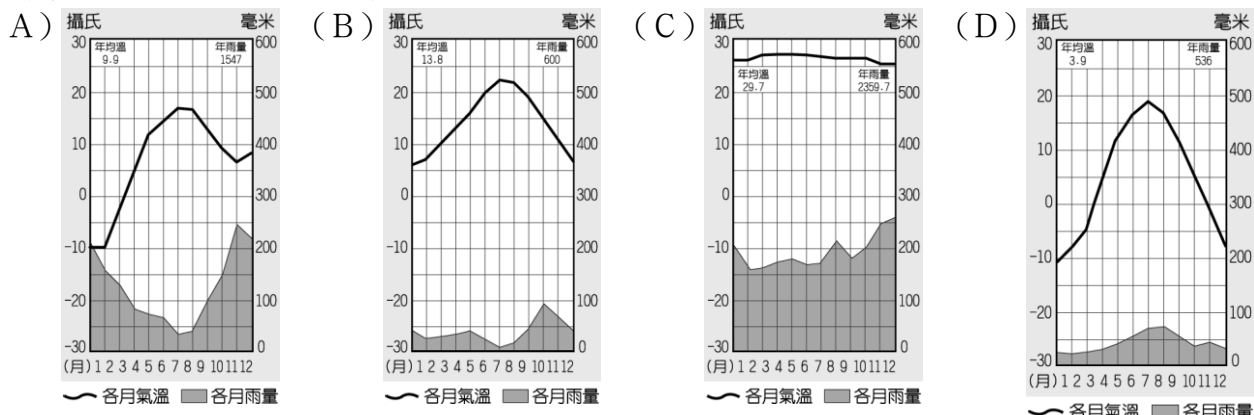
解析：當地有西風帶來水氣，為山脈阻擋後降雨。

二、題組

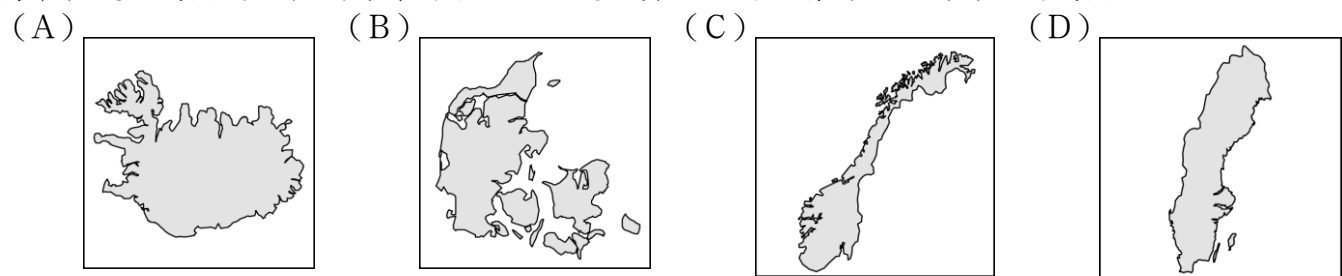
難易度：中

1. 柯市長前往北歐的瑞典考察當地的福利政策，以便作為市政的借鏡。請問：

() (1) 柯市長一行人出國前為了準備衣物，上網查詢了當地的氣候特色。請問：瑞典的氣候圖最接近下列何者？ (



() (2) 柯市長飛抵瑞典後，在機場看到了北歐的觀光資訊地圖。請問：下列何者是瑞典陸地？



() (3) 瑞典的經濟官員向柯市長介紹其經濟發展，由於當地何種條件優越，因此工業相當發達？ (A) 勞動力多 (B) 石油豐富 (C) 工資低廉 (D) 有優質鐵礦。

() (4) 瑞典的社會福利制度相當完善，其社會福利所需要的經費來源與下列何者關係最大？ (A) 壯年人口比例高 (B) 北海開採石油 (C) 居民須負擔高額稅金 (D) 國營企業經營良好。

() (5) 會談結束後，瑞典官員贈送柯市長一組 IKEA 木製杯架。請問：瑞典由於何種林木資源豐富，因此家具業相當發達？ (A) 闊葉林 (B) 混合林 (C) 雨林 (D) 針葉林。

答：(1)D；(2)D；(3)D；(4)C；(5)D

解析：(1) 瑞典東北部因為距海較遠，多屬於溫帶大陸性氣候。

(3) 瑞典發展工業和鐵礦豐富的關係最大。

(4) 北歐國家被譽為「福利國家」，民眾必須付出很高的稅金，以支付社會福利的費用。

(5) 瑞典地處高緯，氣候偏冷溼，因此多針葉林分布。

難易度：中

2. 歐洲足球聯賽開打，英國球迷特地搭機前往挪威觀賽，抵達挪威機場時外面正下著大雨，但無法澆息他們的熱情。請問：

- () (1) 英國球迷要搭機前往挪威為球隊加油，其飛行的方向大致為何？ (A) 東南方 (B) 西南方 (C) 東北方 (D) 西北方。
- () (2) 英國球迷搭機直飛挪威時，在座艙前方的螢幕上，將顯示正要飛越下列哪一個海域？ (A) 大西洋 (B) 地中海 (C) 波羅的海 (D) 北海。
- () (3) 英國球迷一出機場，便遇到斜風細雨，而且氣溫更低。請問：當地降雨主要是受到哪一個風向所影響？ (A) 東風 (B) 西風 (C) 南風 (D) 北風。
- () (4) 英國球迷觀看的賽事為英國對德國，他們發現德國球員身上的球衣有著贊助商賓士汽車的商標。請問：德國汽車工業的發源最早和當地具備何種豐富礦產有關？ (A) 鐵礦 (B) 煤礦 (C) 石油 (D) 水力。
- () (5) 球賽結束後，他們決定順道前往峽灣搭船，欣賞風景。船長告訴他們這裡緯度雖高，但是由於受到下列何種因素的影響，可終年通航？ (A) 高壓籠罩 (B) 海風吹拂 (C) 暖流經過 (D) 熱帶氣旋。

答：(1) C；(2) D；(3) B；(4) B；(5) C

解析：(1) 歐洲大陸位於英國東方，而挪威位於北部，因此應該為東北方。

(3) 挪威屬於溫帶海洋性氣候，盛行西風而帶來雨量。

(4) 德國境內有優質的煤礦，成為促進工業發展的動力。

(5) 挪威由於受到北大西洋暖流經過的影響，港口終年不結冰。


難易度：中

3. 《北海小英雄》這部動畫十分受歡迎，內容描述挪威布蘭村的水手，由黑龍船長帶領出航。黑龍船長的兒子小威聰明過人，常常運用智慧幫助水手們度過難關。下列附圖為這部動畫的部分情節，請問：



海盜船在海上

▲圖(一)



海盜船停靠海

▲圖(二)



白天斜風飄雨

▲圖(三)

- () (1) 圖(一)中的黑龍船長率領水手由挪威港灣出航，其主要活動的最近海域可能為下列何者？ (A) 北海 (B) 地中海 (C) 波羅的海 (D) 亞得里亞海。
- () (2) 圖(二)中小威家鄉的布蘭村因為受到何種作用力的影響，沿岸利於船隻出入？ (A) 河川沖蝕 (B) 斷層陷落 (C) 海浪拍擊 (D) 冰河侵蝕。
- () (3) 圖(三)中所盛行的風向最可能為下列何者？ (A) 東風 (B) 西風 (C) 南風 (D) 北風。

答：(1) A；(2) D；(3) B

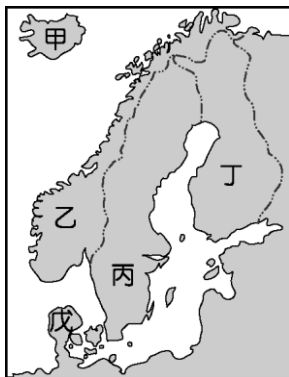
解析：(1) 挪威的南側為北海。

(2) 峽灣海岸為冰河作用所形成的。

(3) 歐洲位於溫帶地區，盛行西風。

難易度：中

4. 童話大師安徒生的著作，為全世界小孩帶來希望，廣受各地歡迎。他出生於北歐的丹麥，而北歐因為社會福利制度和職業教育成功，因此國民生活品質高，成為人人稱羨的地區。請根據附圖回答問題：



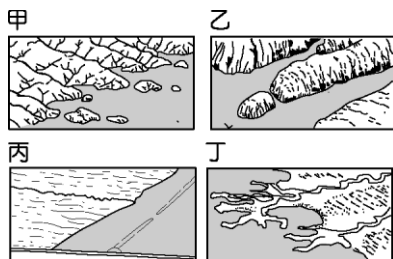
- () (1) 童話大師安徒生出生於北歐丹麥的哥本哈根，為北歐海運的重要十字路口，港口航運發達。而在港口地區就佇立著安徒生筆下的美人魚銅像，成為著名的景點。丹麥位於附圖中的何處？ (A)甲 (B)乙 (C)丙 (D)戊。
- () (2) 北歐五國的自然環境優美，地形景觀豐富，每年夏季時都會有許多的郵輪前往該處，欣賞特殊的峽灣地形景觀。附圖中哪一國家的峽灣海岸深邃壯觀最為著名？ (A)甲 (B)乙 (C)丙 (D)丁。
- () (3) 附圖中丁國傳統產業活動為林木的開發，並利用豐富的湖泊水力發電，提供林業所需要的能源。因為湖泊眾多，被稱為「千湖國」。這個國家指的是北歐的哪一國？ (A)冰島 (B)芬蘭 (C)瑞典 (D)挪威。

答：(1)D；(2)B；(3)B

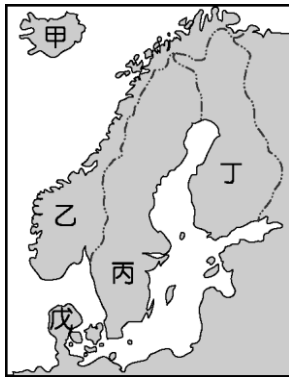
難易度：中

5. 歐洲的自然環境多適宜人居，因此人口稠密且分布平均，經濟發達。而北歐國家的社會福利制度完善，成為實施社會福利政策的模範國。請問：

- () (1) 北歐的海岸類型適合航運活動，因此海上貿易相當興盛。請問：當地的海岸線多為下列何種地形？ (A)甲 (B)乙 (C)丙 (D)丁。



- () (2) 北歐的緯度甚高，當地的農牧活動受其影響很大。附圖中哪一個國家以高經濟價值的產品為主，酪農業的規模相當大，以供應其鄰近國家？ (A)甲 (B)乙 (C)丙 (D)戊。



答：(1)B；(2)D

難易度：中

6. 北歐自古即因其自然環境的分布特色，而發展出和環境相互配合的產業結構特色。請問：

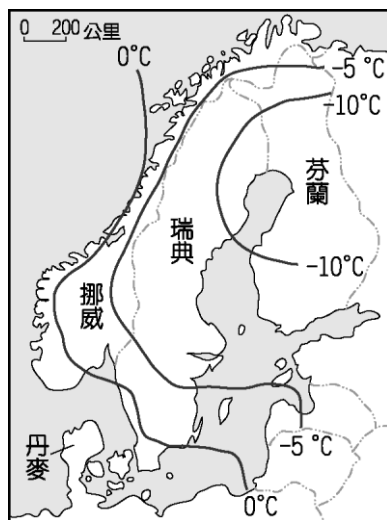
- () (1) 鐵雄因為公務需求，到北歐從事考察，發現當地的海上航運業相當發達。下列哪一項特色對該地區的航運發展助益最大？ (A)北大西洋暖流 (B)西風吹拂 (C)高大山脈 (D)緯度高。
- () (2) 北歐的夏季白晝甚長，但氣溫卻涼爽不熱。請問：這種現象受下列哪一項因素的影響最大？ (A)地處高緯 (B)地形高低起伏 (C)距海遠近範圍 (D)降雨量多。

答：(1)A；(2)A

難易度：中

7. 由於優越的自然條件，使歐洲各地的經濟發展十分進步，國民生活水準頗高。而社會福利最為完善的北歐國家，其經濟活動受到自然環境的影響，各地特色不同。請問：

- () (1) 附圖為北歐的一月月均溫分布圖，請根據圖中資料判斷，該地區一月月均溫最主要受到哪一項因素的影響？ (A)緯度高低 (B)暖流經過 (C)地形屏障 (D)面積大小。



() (2) 丹麥的航運位置相當重要，成為重要的海運要道。請問：該國位於下列哪兩個海域之間？ (A) 北海、地中海 (B) 地中海、大西洋 (C) 北海、大西洋 (D) 波羅的海、北海。

答：(1) B ; (2) D

三、填充題

難易度：易

8. 北歐向以壯麗的冰河地形著稱，其地形主體為【 】半島。

答：斯堪地那維亞

難易度：易

9. 歐洲境內的【 】歐社會福利最為完善，有健全的教育、醫療、失業救濟及國民年金等制度。

答：北

難易度：易

10. 北歐國家中的【 】位於板塊張裂地帶，境內火山地形相當發達。

答：冰島

難易度：中

11. 北歐的芬蘭有「千湖國」之稱，該國的湖泊類型為【 】。

答：冰蝕湖

難易度：中

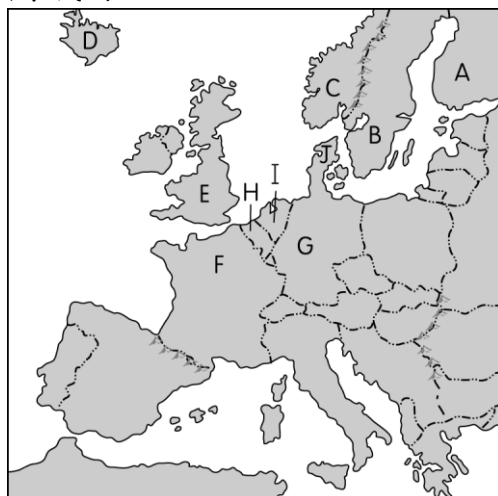
12. 北歐的冰島利用地熱及水力資源發展【 】工業。

答：煉鋁

四、配合題

難易度：中

13. 附圖為歐洲國家簡圖，請找出相對應的國家代碼：



() (1) 時尚產業發達，引領世界潮流。

() (2) 有低地國之稱，畜牧業發達。

() (3) 森林、湖泊遍布，聖誕老人的故鄉。

() (4) 有豐富的鐵礦，發展汽車 (VOLVO) 等產業。

() (5) 以廉價的地熱及水力發電，發展煉鋁業。

() (6) 峽灣地形發達，發展漁業及海運業，近來又增加北海石油收入。

() (7) 工業革命發源地，昔有「日不落國」之稱。

() (8) 歐洲經濟產值最高的國家。

() (9) 首都布魯塞爾為歐盟總部。

() (10)安徒生的故鄉、樂高積木生產國。

答：(1)F；(2)I；(3)A；(4)B；(5)D；(6)C；(7)E；(8)G；(9)H；(10)J

難易度：中

14.請從參考選項中找出相對應的城市代碼：

參考選項：

(甲)斯德哥爾摩 (乙)雷克雅維克

(丙)奧斯陸 (丁)赫爾辛基 (戊)哥本哈根

() (1)挪威的航運與工業中心。

() (2)每年諾貝爾獎在此地頒發。

() (3)有「千湖國」之稱的首都。

() (4)丹麥首都，安徒生曾在此創作許多童話故事。

() (5)為冰雪覆蓋的火山島首都。

答：(1)丙；(2)甲；(3)丁；(4)戊；(5)乙

五、簡答題

難易度：易

15.英國和挪威近年來開發哪一個海域的石油，分別為該國的經濟帶來新契機？

答：

答：北海。

難易度：中

16.小威乘船欲前往歐洲某一個國家，在船上發現海灣冒著煙，遠遠的就可以看到該國壯觀的冰河、火山等地形。請問：小威將抵達的國家為何？

答：

答：冰島。